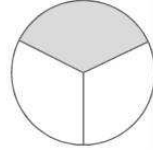


İTERAKTİF EĞİTİM
Kesirleri Tanıma Konu Değerlendirme Testi

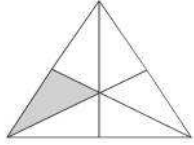
1. Yandaki şeklin boyalı kısmını gösteren kesir aşağıdakilerden hangisidir?

- A. $\frac{1}{3}$ B. $\frac{1}{2}$ C. $\frac{1}{4}$



2. Boyalı şekillerden hangisinin boyalı kısmı $\frac{1}{5}$ 'i gösterir?

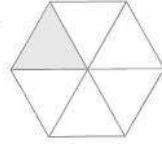
A.



B.



C.




3. Aşağıdaki kesirlerden hangisinin okunuşu sekizde birdir?

- A. $\frac{3}{8}$ B. $\frac{1}{8}$ C. $\frac{3}{9}$

4. Aşağıdakilerden hangisinin payı 5'tir?

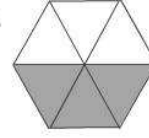
- A. $\frac{1}{5}$ B. $\frac{5}{8}$ C. $\frac{3}{5}$

5. Hangi bütünün boyalı kısmı kesrin birimine karşılık gelir?

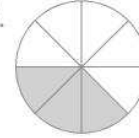
- A.  B.  C. 

6. Aşağıdakilerden hangisinin boyalı kısmı $\frac{3}{6}$ kesrini gösterir?

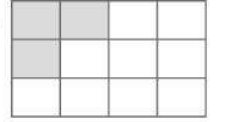
A.



B.

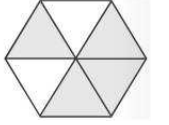


C.



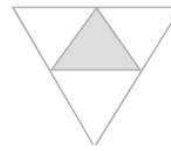
7. Yandaki şeklin boyanmış kısmı hangi kesirle gösterilir?

- A. $\frac{2}{4}$ B. $\frac{2}{6}$ C. $\frac{4}{6}$

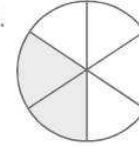


8. Aşağıdakilerden hangisindeki boyalı kısım kesrin birimini gösterir?

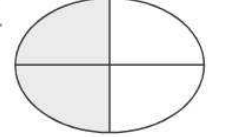
A.



B.



C.

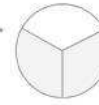


9. $\frac{1}{3}$ kesrinin şekille boyanarak gösterilişi aşağıdakilerden hangisidir?

A.



B.



C.



10. $\frac{1}{9}$ kesri ile ilgili aşağıdaki anlatımlardan hangisi yanlıştır?

- A. Paydasında 1 vardır.
B. Kesrin birimidir.
C. 9 eş parçadan birini anlatır.