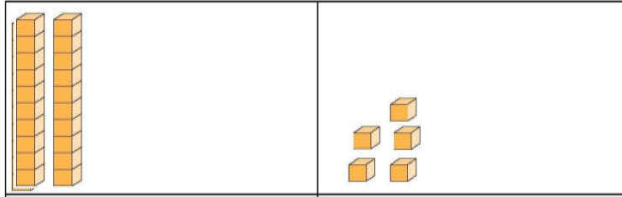


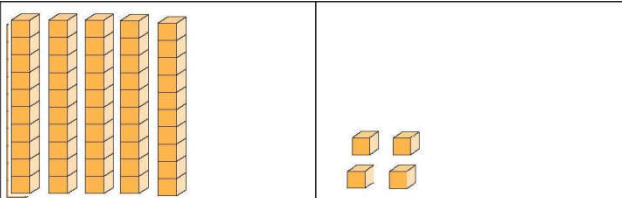


1. Aşağıdaki tabloları tamamlayınız.



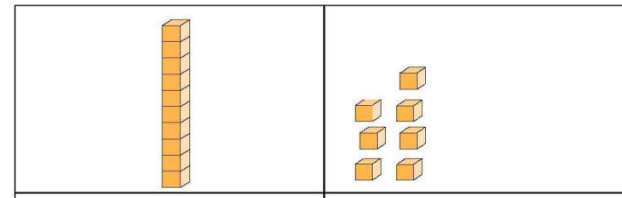
Sayı
Basamak Adları basamağı basamağı
Rakamların Basamak Değeri

Sayının Okunuşu :



Sayı
Basamak Adları basamağı basamağı
Rakamların Basamak Değeri

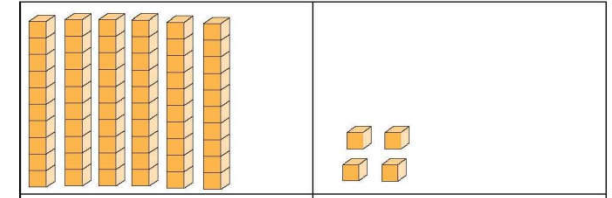
Sayının Okunuşu :



Sayı
Basamak Adları basamağı basamağı
Rakamların Basamak Değeri

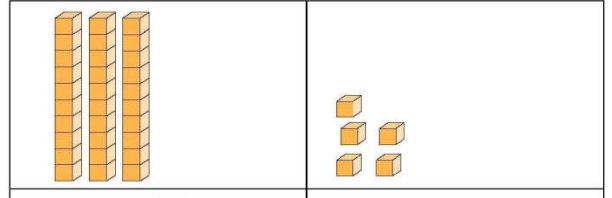
Sayının Okunuşu :

2. Aşağıdaki tabloları tamamlayınız.



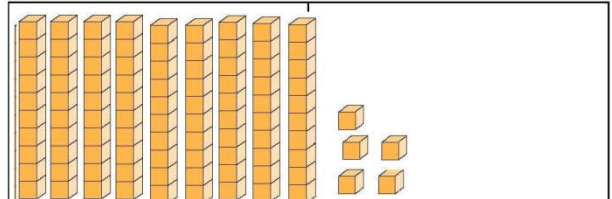
Sayı
Basamak Adları basamağı basamağı
Rakamların Basamak Değeri

Sayının Okunuşu :



Sayı
Basamak Adları basamağı basamağı
Rakamların Basamak Değeri

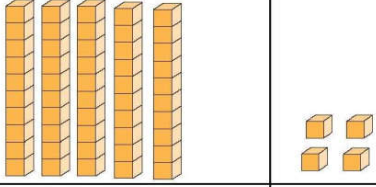
Sayının Okunuşu :




Sayı
Basamak Adları basamağı basamağı
Rakamların Basamak Değeri

Sayının Okunuşu :

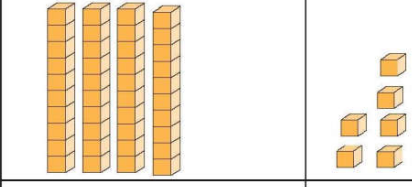
3. Aşağıdaki tabloları örneğe göre tamamlayınız.

	
5 onluk	4 birlik
Sayı	
Basamak Adları	Onlar basamağı
Rakamların Basamak Değeri	50

Sayının Okunuşu :


	
..... onluk birlik
Sayı	
Basamak Adları basamağı
Rakamların Basamak Değeri

Sayının Okunuşu :

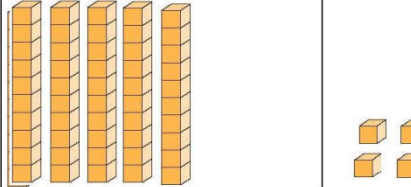
	
..... onluk birlik
Sayı	
Basamak Adları basamağı
Rakamların Basamak Değeri

Sayının Okunuşu :

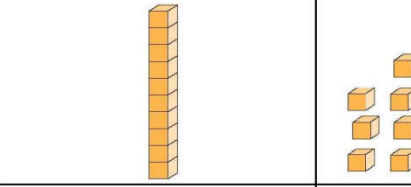
4. Aşağıdaki tabloları tamamlayınız.

	
..... onluk birlik
Sayı	
Basamak Adları basamağı
Rakamların Basamak Değeri

Sayının Okunuşu :

	
..... onluk birlik
Sayı	
Basamak Adları basamağı
Rakamların Basamak Değeri

Sayının Okunuşu :

	
..... onluk birlik
Sayı	
Basamak Adları basamağı
Rakamların Basamak Değeri

Sayının Okunuşu :