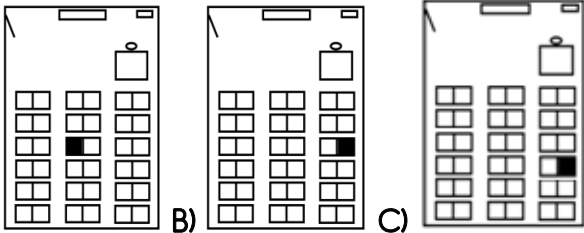


İTERAKTİF EĞİTİM

Genel Değerlendirme -4-

HAYAT BİLGİSİ

1. Aşağıdaki ifadelerden hangisi **yanlıştır**?
- A) Her öğrencinin benzer ve farklı özelliklerinin olması doğaldır.
B) Farklılıklar insanı özel ve eşsiz yapar.
C) Sınıfça izlenen bir filmde herkes mutlaka aynı zevki alır.
2. Aşağıdaki seçeneklerden hangisinde verilen özelliklere sahip olan kişileri arkadaş olarak **seçmeyiz**?
- A) Uyumlu, paylaşımcı, hoşgörülü
B) Alay eden, bencil, somurtkan
C) Saygılı, güvenilir, sorumluluk sahibi
3. Bir yarışmayı rakip takım kazanırsa aşağıdakilerden hangisini yapmalıyız?
- A) Takım arkadaşlarımıza kızmalıyız.
B) Kazanan takımı kutlamalıyız.
C) Yarışma alanını terk etmeliyiz.
4. I. *Kendine güvenmesi*
II. *Çalışkanlığı*
III. *Güçlükler karşısında yılmaması*
IV. *Okuma sevgisi*
- Mustafa Kemal'in, başarılı olmasında etkili olan özellikler aşağıdaki hangi seçenekte verilmiştir?
- A) I – II – III – IV B) I – II – IV C) II – IV
5. Sınıfta, öğretmen masasının karşısında, 4. sıranın sağında oturduğunuzun söyleyen bir öğrencinin kendi yeri, çizdiği krokide hangi taralı bölgededir?



6. I. *Okula zamanında gitmeliyiz.*
II. *Çöpleri yerlere atmamız.*
III. *Bulduğumuz eşyaları görevlilere vermeliyiz.*
IV. *Merdivenlerin sağından çıkıp sağından inmeliyiz.*

Yukarıdakilerin hangileri okulda uymamız gereken kurallardandır?

- A) I – II – III B) I – II – IV C) I – III – IV
7. "Arkadaşlarınız arasında yaşanan bir problemde sizden hakem olmanız isteniyor.. Bu durumda aşağıdakilerden hangisini yaparak tarafsız davranmış olursunuz?

- A) İki tarafı da dinleyip haklı olanı belirleyerek
B) Size daha yakın olan arkadaşınızın haklı olduğunu söyleyerek
C) Kimin haklı olduğunu bulmak için kura çekerek

8. I. *Birbirimizin sözünü kesmeden dinlemeliyiz.*

II. *Fikirlerimizi mutlaka kabul ettirmeliyiz.*

III. *Karşımızdakinin düşüncelerine hoşgörülü ve saygılı olmalıyız.*

Kişilerle iletişim kurarken yukarıdakilerden hangilerine dikkat etmeliyiz?

- A) I – II – III B) I – III C) I – II

TÜRKÇE

EĞİK AĞAÇAR

Yağmur dindikten sonra, şuraya buraya ışıklar serpildi, gökyüzünden. Aydınlık gölgelerin içine martı kanatları gibi parça parça düştü. Pencereyi açtım. Birden sarıya bulandı bulutlar. Caddeye çıkıp, rasgele yürümeye başladım. Yorulunca pis bir sokağa daldım. Önüme kediler çıktı bir sürü. Üstüme saldırmaya kalktı bir tanesi. Taş attım yol, yol verdi.

Aşağıdaki dört soruyu yukarıdaki parçaya göre cevaplayın.

9. Yazar ne zaman caddeye çıktı?

- A) Yağmurdan önce B) Yağmurdan sonra
C) Hiçbir zaman

10. Yazara göre sokak ne haldeydi?

- A) Pislik içinde B) Tertemiz C) Daracık

11. Parçada hangi hayvanlardan bahsediliyor?

- A) Kaplanlardan B) Sincaplardan C) Kedilerden

12. Yazar bulutların hangi renge boyandığını söylüyor?

- A) Kırmızı B) Pembe C) Sarı

13. "Bu hareketinden dolayı herkes ona gülüyor.." cümlesinde aşağıdaki hangi soruya cevap **alamayız**?

- A) Kim? B) Nasıl? C) Niçin?

İTERAKTİF EĞİTİM

14. "Sonbaharda ağaçlar yapraklarını döker.." cümlesinde altı çizili sözcüğün eş anlamlısı hangi seçenekte verilmiştir?

- A) Okullar eylül ayında açılır.
- B) Yaz tatilinde çok eğlendim.
- C) Güz mevsimini çok severim.

15. Aşağıdaki cümlelerin hangisinde yazım yanlışı vardır?

- A) Samsundan kalkan uçak Trabzon'a doğru gidiyor.
- B) Bursalı bir arkadaşım var.
- C) Fatmalar bizim eve yakın oturuyorlar.

16. "bütün – yaptım – için – yiyecekleri – bu – bana – senin," kelimelerinden anlamlı bir cümle oluşturduğumuzda hangi sözcüğe gerek yoktur?

- A) için
- B) bütün
- C) bana

MATEMATİK

17. 386 sayısında 8 ile 6 rakamlarının basamak değerleri farkı kaçtır?

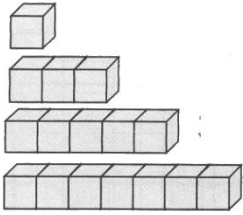
- A) 86
- B) 74
- C) 20

18. 675 sayısında 6 ile 7 rakamlarının basamak değerleri toplamı kaçtır?

- A) 13
- B) 67
- C) 670

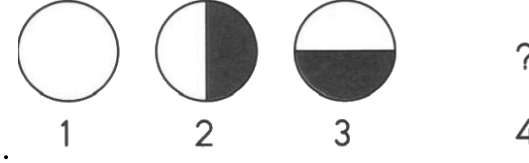
19. 4, 8, 5 rakamları ile yazılabilecek en büyük doğal sayı kaçtır?

- A) 854
- B) 985
- C) 548

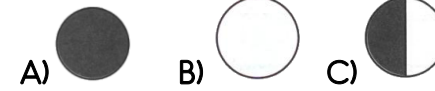


20. Şekildeki örüntünün 4. adımında kaç tane küp yer alır?

- A) 8
- B) 9
- C) 10



21. Yukarıdaki örüntüde boş bırakılan yere aşağıdakilerden hangisi gelmelidir?



22. bir çiftlikte 298 tavuk, tavuklardan 147 fazla koyun vardır. Bu çiftlikteki toplam hayvan sayısı kaçtır?

- A) 860
- B) 743
- C) 620

23. Bir okulda 268 erkek öğrenci ve erkeklerden 89 fazla da kız öğrenci vardır. Bu okulda toplam kaç öğrenci vardır?

- A) 625
- B) 745
- C) 825

24. 289 sayısının 57 fazlası ile toplamının 364 fazlası kaçtır?

- A) 725
- B) 635
- C) 545

25. Baran aklından bir sayı tutuyor. Bu sayıya 47 ekleyince 568 olduğuna göre Baran'in tuttuğu sayı kaçtır?

- A) 521
- B) 615
- C) 435