

Konu Testleri

Kesirler Değerlendirme Testi

1. Aşağıdaki karşılaştırmalardan hangisi yanlıştır?

A) $\frac{5}{6} > \frac{3}{6}$

B) $\frac{2}{3} > \frac{2}{5}$

C) $\frac{3}{6} < \frac{5}{6}$

D) $\frac{3}{4} < \frac{1}{6}$

2. Aşağıdaki karşılaştırmalardan hangisi yanlıştır?

A) $\frac{3}{4} > \frac{7}{12}$

B) $\frac{3}{4} > \frac{7}{12}$

C) $\frac{7}{12} > \frac{3}{4}$

D) $\frac{7}{12} < \frac{3}{4}$

3. Aşağıdaki sıralamalardan hangisi doğrudur?

A) $\frac{1}{4} < \frac{3}{6} < \frac{8}{9}$

B) $\frac{8}{9} < \frac{3}{6} < \frac{1}{4}$

C) $\frac{3}{6} < \frac{8}{9} < \frac{1}{4}$

D) $\frac{8}{9} < \frac{1}{4} < \frac{3}{6}$

4. Aşağıdakilerden hangisinin büyükten küçüğe doğru sıralanışı doğrudur?

A) $\frac{7}{9} > \frac{7}{5} > \frac{7}{3} > \frac{7}{1}$

B) $\frac{9}{7} > \frac{5}{7} > \frac{3}{7} > \frac{1}{7}$

C) $\frac{1}{7} > \frac{3}{7} > \frac{5}{7} > \frac{9}{7}$

D) $\frac{3}{7} > \frac{5}{7} > \frac{1}{7} > \frac{9}{7}$

5. Aşağıdakilerden hangisinin küçükten büyüğe doğru sıralanışı doğrudur?

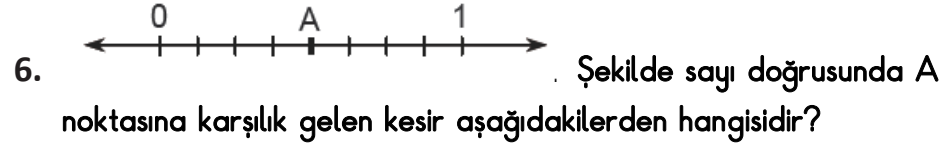
A) $\frac{3}{11} > \frac{3}{9} > \frac{3}{8} > \frac{3}{2}$

Konu Testleri

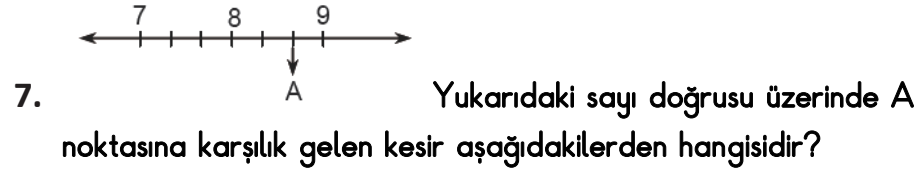
B) $\frac{11}{3} < \frac{9}{3} < \frac{8}{3} < \frac{2}{3}$

C) $\frac{11}{3} > \frac{9}{3} > \frac{8}{3} > \frac{2}{3}$

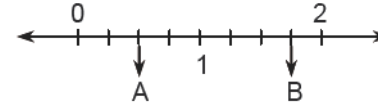
D) $\frac{3}{11} < \frac{3}{9} < \frac{3}{8} < \frac{3}{2}$



- A) $\frac{1}{8}$ B) $\frac{1}{4}$ C) $\frac{1}{2}$ D) $\frac{3}{4}$



- A) $\frac{22}{3}$
B) $\frac{24}{3}$
C) $\frac{25}{3}$
D) $\frac{26}{3}$



8. Yukarıda verilen sayı doğrusunda A ve B noktalarına karşılık gelen kesirler için aşağıdakilerden hangisi doğrudur?

- A) $A < B$
B) $A > B$
C) $A = B$
D) $A > B > 1$

9. Aşağıdaki kesirlerin büyükten küçüğe doğru sıralanışı hangi seçenekte verilmiştir?

- A) $\frac{3}{14} > \frac{6}{20} > \frac{1}{18}$
B) $\frac{3}{14} > \frac{1}{18} > \frac{6}{20}$
C) $\frac{6}{20} > \frac{3}{14} > \frac{1}{18}$
D) $\frac{6}{20} > \frac{1}{18} > \frac{3}{14}$

10. $3\frac{1}{6} < \frac{m}{18}$ sıralamasında m nin alabileceği en küçük doğal sayı değeri kaçtır?

- A) 55 B) 56 C) 57 D) 58