






















Konu Testleri

Oralarda Hava Nasıl? Konu Değerlendirme Testi

Günler	1. Hafta	2. Hafta	3. Hafta
Pazartesi			
Salı			
Çarşamba			
Perşembe			
Cuma			
Cumartesi			
Pazar			

Yukarıdaki grafikte bir yerin 3 haftalık hava durumu verilmektedir.

Aşağıdaki ilk 5 soruyu yukarıdaki grafiğe göre cevaplayınız.

1. Grafiğe göre güneşli gün sayısı kaçtır?

- A) 2 B) 3 C) 5

2. Grafiğe göre yağmurlu gün sayısı kaçtır?

- A) 2 B) 3 C) 5

3. Grafiğe göre bulutlu gün sayısı kaçtır?

- A) 8 B) 7 C) 6

4. Grafiğe göre parçalı bulutlu gün sayısı kaçtır?

- A) 2 B) 3 C) 5

5. Grafiğe göre hangi gün kar yağışı görülmüştür?

- A) Pazartesi B) Çarşamba C) Pazar

6. Ülkemizde, hava durumu tahminleri hangi kuruluş tarafından yapılmaktadır?

- A) Devlet Meteoroloji İşleri Genel Müdürlüğü
B) Halk eğitim müdürlüğü
C) Belediye

7. Bir günlük hava tahmininden oluşan bilgiye ne denir?

- A) İklim
B) Hava durumu
C) Yol durumu

8. Aşağıdaki mesleklerden hangisi hava durumundan daha çok etkilenir?

- A) Doktorluk
B) Öğretmenlik
C) Çiftçilik

9. Aşağıdaki bilgilerden hangisi yanlıştır?

- A) Hava gözlemleri meteoroloji istasyonlarında çeşitli aletlerle yapılır.
B) Meteoroloji uzmanları tahminleri yaparken bilgi teknolojilerini kullanırlar.
C) Yapılan ölçümler diğer çalışanları ilgilendirmez.

10. Aşağıdaki bilgilerden hangisi yanlıştır?

- A) Havanın soğuk, sıcak ya da yağışlı oluşu bizim için çok önemli değildir.
B) İnsanlar hava durumuna göre nasıl giyineceklerine, neler yapacaklarına karar verirler.
C) Çiftçiler, balıkçılar, havacılar, denizciler, yola çıkacak kişiler işlerini hava durumuna göre planlarlar.