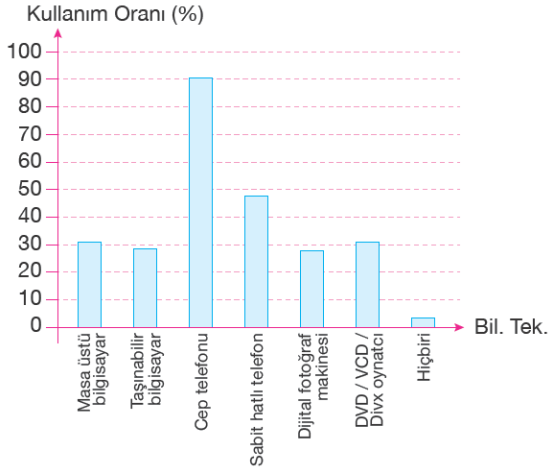


Konu Testleri

1.Dönem 3.Değerlendirme Testi

Grafik: Bilişim Teknolojileri Kullanımı



1- En çok kullanılan bilişim teknolojisi aracı hangisidir?

- A) Masa üstü bilgisayar
- B) Taşınabilir bilgisayar
- C) Cep telefonu
- D) Sabit hatlı telefon

2- Taşınabilir bilgisayar kullanım oranına en yakın olan araç hangisidir?

- A) Masa üstü bilgisayar
- B) Dijital fotoğraf makinesi
- C) Cep telefonu
- D) Sabit hatlı telefon

3- Kullanım oranı %30'un üzerinde olan kaç tür bilişim teknolojisi aracı vardır?

- A) 1
- B) 2
- C) 3
- D) 4

4- Sabit hatlı telefon kullanım oranı yaklaşık yüzde kaçtır?

- A) %20
- B) %30
- C) %40
- D) %50

5- Pelin ve arkadaşları, doğum günü yaklaşan Yusuf'a küçük bir hediye olarak doğum gününü kutlamak ve onu sevindirmek istiyorlar. Hediye alması için arkadaşları Pelin'i görevlendiriyor. Nasıl bir hediye alacağına karar veremeyen Pelin, bütün arkadaşlarının fikrini almak ve alacağı hediyeye öyle karar vermek istiyor. Pelin

arkadaşlarının fikrini alırken onlara sorabileceği en uygun soru aşağıdakilerden hangisidir?

- A) Ne tür oyunculardan hoşlanırsınız?
- B) Doğum gününüzde size gelen en güzel hediye hangisidir?
- C) Yusuf'un en çok hoşuna gideceğini düşündüğünüz hediye hangisidir?
- D) Hangi mağazalardan hediye alabiliriz?

| Yıl | İstanbul Ton | Ankara Ton | İzmir Ton | Adana Ton | Top |
|------|--------------|------------|-----------|-----------|-----|
| 2011 | 60 000 | 40 000 | 40 000 | 50 000 | |
| 2010 | 50 000 | 30 000 | 40 000 | 40 000 | |
| 2009 | 70 000 | 20 000 | 30 000 | 20 000 | |
| 2008 | 40 000 | 50 000 | 20 000 | 40 000 | |
| 2007 | 50 000 | 10 000 | 20 000 | 10 000 | |
| 2006 | 30 000 | 30 000 | 40 000 | 20 000 | |
| 2005 | 20 000 | 40 000 | 30 000 | 30 000 | |

6- Tabloya göre, İstanbul da en çok kırmızı et hangi yıl satılmıştır?

- a)2008
- b)2010
- c)2011
- d)2009

7- Tabloya göre, İzmir de en az kırmızı et hangi yıl satılmıştır?

- a)2005
- b)2007
- c)2005
- d)2011

8- Tabloya göre, hangi yıl 150 000 ton kırmızı et satılmıştır?

- a)2007
- b)2006
- c)2008
- d)2011

9- Tabloya göre, hangi yıllar satılan kırmızı et miktarı birbirine eşittir?

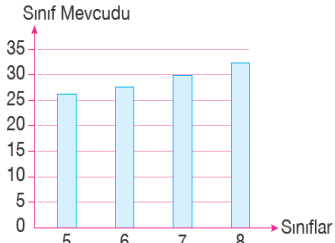
- a)2006-2007
- b)2005-2006
- c)2007-2008
- d)2010-2011

10- Tabloya göre, hangi yıl 140 000 ton kırmızı et satılmıştır?

- a)2007
- b)2006
- c)2008
- d)2009

Konu Testleri

Grafik: Okul Sınıf Mevcutları



11- Bir ortaokuldaki sınıfların mevcutlarını gösteren grafik yanda verilmiştir. Grafiğe göre verilen seçeneklerden hangisi yanlıştır?

- A) Üst sınıflara doğru gidildikçe sınıflardaki öğrenci sayıları artmıştır.
- B) Mevcudu 30'un üzerinde olan sınıf 8. sınıftır.
- C) 5 ve 6. sınıflardaki öğrenci sayıları birbirine eşittir.
- D) 7. sınıfta öğrenim gören 30 öğrenci vardır.

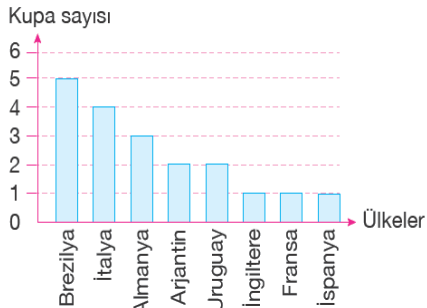
Tablo: Illere Bağlı İlçe Sayısı

| İl | İlçe Sayısı |
|----------|-------------|
| Adana | 15 |
| Ankara | 25 |
| Bursa | 17 |
| İstanbul | 39 |
| İzmir | 30 |

12- Nüfusu en kalabalık ilk beş ilimize bağlı ilçelerin sayısı ile ilgili tablo yanda yer almaktadır. Tabloya göre yorumlardan hangisinin yapılması yanlış olur?

- A) İstanbul'a bağlı olan ilçe sayısı 39'dur.
- B) En az ilçeye sahip olan il Adana'dır.
- C) İzmir'e bağlı ilçe sayısı Adana'nınkinin iki katına eşittir.
- D) Kendisine bağlı olan ilçe sayılarına göre iller sıralandığında ortada olan il Bursa'dır.

Grafik: Ülkelerin Kazandığı FIFA Dünya Kupası Sayısı



13- En fazla kupa kazanan ülke hangisidir?

- A) Brezilya
- B) Almanya
- C) İtalya
- D) Arjantin

14- Kazandığı kupa sayısı 2 olan iki ülke vardır. Bunlar hangileridir?

- A) Almanya-Arjantin
- B) İngiltere-Fransa
- C) Arjantin-Uruguay
- D) İtalya-Almanya

15- Toplam kaç kez kupa kazanılmıştır?

- A) 16
- B) 17
- C) 18
- D) 19

16- Brezilya'dan sonra en fazla kupa kazanan ülke hangisidir?

- A) Almanya
- B) İtalya
- C) Arjantin
- D) Uruguay

17- Almanya kupayı kaç kez kazanmıştır?

- A) 2
- B) 3
- C) 4
- D) 5

18- Günde 30 dakika spor yapan Elif, bir hafta iki günde kaç dakika spor yapmış olur?

- A) 270
- B) 280
- C) 290
- D) 300

19- Osman saat 22:25'te yatıp, sabah 07:15'te kalktı. Osman ne kadar uyumuştur?

- A) 8 sa 35 dk
- B) 8 sa 40 dk
- C) 8 sa 50 dk
- D) 8 sa 55 dk

20- Erkan kardeşiyle birlikte sinemaya gidiyor. Film 13:30'da başlayıp 15:15'te bittiğine göre, film ne kadar sürmüştür?

- A) 1 sa 5 dk
- B) 1 sa 15 dk
- C) 1 sa 25 dk
- D) 1 sa 45 dk