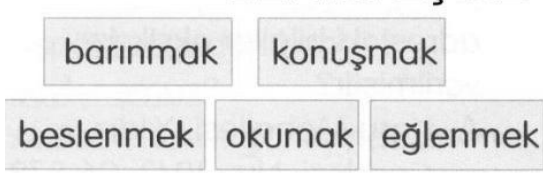


1-



Yukarıdakilerden kaç tanesi temel ihtiyaçlarımızdandır?

- A. 1 B. 2 C. 3

2-

Evde beslediğimiz bitkilerin karşılamalıyız.

Evde hayvan beslemek gerektirir.

Bu cümlelerdeki noktalı yerlere aşağıdakilerden hangisi yazılamaz?

- A. zenginlik
B. ihtiyaçlarını
C. sorumluluk

3-

Odasında bir saksı bitkisi yetiştiren Öykü'nün, bitkinin bakımı için aşağıdakilerden hangisini yapması **gerekmez**?

- A. Düzenli olarak bitkiyi sulaması
B. Bitkiyi ara sıra balkona çıkarması
C. Belli aralıklarla toprağını değiştirmesi

4-

Hangi seçenekteki tüm hayvanları evde besleyebiliriz?

- A. güvercin, kanarya, leylek, balık
B. balık, kedi, su kaplumbağası, papağan
C. serçe, tilki, muhabbet kuşu, köpek

5-

Hangi seçenekteki tüm hayvanları evde besleyebiliriz?

- A. güvercin, kanarya, leylek, balık
B. balık, kedi, su kaplumbağası, papağan
C. serçe, tilki, muhabbet kuşu, köpek

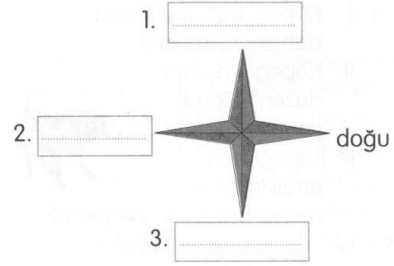
6-

Canlılar; bitkiler, hayvanlar ve insanlar olmak üzere üç gruba ayrılır.

Hangi seçenekteki tüm canlılar aynı gruptandır?

- A. martı, balina, zebra, yılan
B. timsah, kaktüs, kartal, yunus
C. menekşe, kavak, kurbağa, papatya

7-



7. Ve 8.

Soruları yukarıdaki şekle göre cevaplayınız.

Güneş kaç numaralı kutucuğun bulunduğu yönden batar?

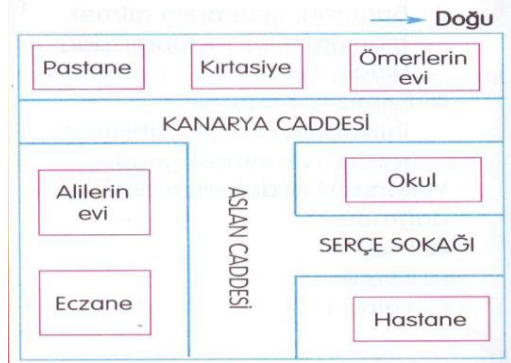
- A. 1 B. 2 C. 3

8-

Şemadaki 3 numaralı kutucuğa aşağıdakilerden hangisi yazılmalıdır?

- A. batı
B. kuzey
C. güney

9-



Alilerin evinin konumu için aşağıdakilerden hangisi söylenemez?

- A. Postanenin güneyindedir.
B. Okulun batısındadır.
C. Eczanenin güneyindedir.

- 10- Krokiye göre aşağıdaki ifadelerden hangisi **yanlıştır**?
 A. Okul, Kanarya Caddesi'nin batısındadır.
 B. Hastane, Serçe Sokağı'nın güneyindedir.
 C. Alilerin evi, eczanenin kuzeyindedir.
- 11- Yönleri bulmak için adı verilen araçtan yararlanılır. Bu araçta bulunan ibrenin koyu renkli ucu gösterir. Bu cümlelerde noktalı yerlere sırasıyla hangi seçenektekiler yazılmalıdır?
 A. termometre, kuzeyi
 B. pusula, güneyi
 C. pusula, kuzeyi
- 12- Kutup Yıldızı'nın bulunduğu yöne sağ kolunu uzatan Ceyda'nın sol kolu hangi yönü gösterir?
 A. batıyı
 B. güneyi
 C. kuzeyi
- 13- Güneş'in doğduğu yöne sağ kolunu uzatan Derya'nın yüzü hangi yöne bakar?
 A. kuzeye
 B. batıya
 C. doğuya
- 14- Aşağıdaki ifadelerden hangisi **yanlıştır**?
 A. Pusulanın açık renkli ucu güneyi gösterir.
 B. Karıncalar, yuvalarının ağzındaki toprağı kuzey yönüne yığar.
 C. Ağaç ve kayaların yosun tutmayan yüzü kuzeye bakar.
- 15- Aşağıdaki ifadelerden hangisi **doğrudur**?
 A. Kardeşlerimizle benzer fiziksel özelliklere sahip olabiliriz.
 B. Kardeşlerin becerileri arasında farklılık olmaz.
 C. Kardeşlerimizin farklı özellikleriyle alay edebiliriz.

- 16- I. Tuvaletten çıkarken sifonu çekmek
 II. Kişisel eşyalarımızı düzenli bir şekilde odamızda bulundurmak
 III. Ablamızla ortak kullandığımız odayı dağınık bırakmak
Yukarıdaki davranışlarımızdan hangileri evin kullanım alanlarıyla ilgili sorunlar yaşamamıza neden olur?
 A. I ve II
 B. II ve III
 C. Yalnız III
- 17- Evimizin bölümlerini kullanırken aile bireylerimizle sorun yaşamamak için ve olmalıyız.
Bu cümledeki noktalı yerlere aşağıdakilerden hangisinin yazılması uygun olmaz?
 A. bencil
 B. hoşgörülü
 C. anlayışlı
- 18- **Aşağıdakilerden hangisi evde tehlike oluşturabilir?**
 A. Elektrikli ev aletlerinden uzak durmak
 B. Kesici ve sivri aletlerle oyun oynamamak
 C. Sandalyeye çıkıp dolabın üstüne tırmanmak
- 19- **Hangisi, deprem öncesinde alınacak önlemlerden biridir?**
 A. Depreme dayanıksız binalar yapmak
 B. Kitaplık, dolap gibi eşyaları sabit hâle getirmek
 C. Deprem çantası hazırlamaktan kaçınmak
- 20- **Hangi davranış, kişisel eşyalarımızı özenli kullandığımızı gösterir?**
 A. Oyuncaklarımızı kırıp dökmek
 B. Elbiselerimizi koridora bırakmak
 C. Ayakkabılarımızı boyamak