

1. Çok eski zamanlarda insanlar Dünya'mızın şekli ile ilgili farklı fikirler ortaya atmıştır. Şu anda kullandığımız birçok araç o zamanlarda yoktu. Bu nedenle eski zamanlarda insanlar gözlemlerine dayanarak değişik tahminlerde bulunmuşlardır. **Aşağıdakilerden hangisi bu tahminlerden birisi değildir?**

- A) Dünya'nın tepsi şeklinde düz olması.
- B) Dünya'mızın bir öküzün boynuzları veya fillerin hortumları üzerinde durması.
- C) Dünya'nın küre şeklinde yuvarlak olması.

2. Öğretmenleri; Mehmet, Rana ve Efe'ye çevrelerinden Dünya'nın şekline benzeyen üç varlık seçmelerini istemiş. Mehmet, Rana ve Efe bu varlıkları seçerken bazılarında hata yapmışlar. **Hangisinin seçtiği bütün varlıklar dünyanın şekline benzer?**

- A) Efe; elma, kitap, yumurta.
- B) Rana; karpuz, bilye, portakal.
- C) Mehmet; çember, simit, Şeftali.

3. Bir topun şeklinin Dünya'nın şekline benzediğini söyleyebiliriz. Topu Dünya'nın şekline tam olarak benzetebilmek için ne yapmalıyız?

- A) Alttan ve üstten bastırmalıyız.
- B) Topun üstüne resim yapmalıyız.
- C) Topu kendi çevresinde döndürmeliyiz.

4. Ünlü bir denizci olan Magellan Dünya'nın şeklinin küreye benzediğini düşünüyordu. Onun düşüncesine göre Dünya'nın şekli küreye benziyorsa belirlediği bir noktadan itibaren sürekli aynı yönde gittiğinde başladığı noktaya varmalıydı. **Magellan bunu kanıtlamak için aşağıdakilerden hangisini yapmıştır?**

- A) Gemisiyle hep batıya giderek Dünya'nın çevresini dolanmak istemiştir.
- B) Uzaya giderek çektiği resimleri kanıt olarak göstermiştir.
- C) Bir uçakla hep batıya uçmuş ve tekrar başladığı yere gelmiştir.



5. Dünya'nın şekli ile ilgili yandaki görsel sunuyu hazırlayan Deniz aşağıdakilerden hangisini göstermek istemiştir?

- A) Dünya'nın kendi çevresinde döndüğünü.
- B) Dünya'nın küre şeklinde yuvarlak olduğunu.
- C) Dünya'nın tepsi gibi düz olduğunu.



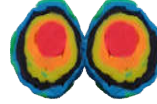
6. Yandaki görseli hazırlayan Azra aşağıdakilerden hangisini anlatmak istemiştir?

- A) Uçakla güvenli yolculuk yapıldığını.
- B) Uçakla Dünya'nın her yerine kolaylıkla gidilebileceğini.
- C) Uçakla hep aynı yöne gidilirse yine başlangıç noktasına geldiğini.



7. Tuğra yandaki görsel sunuyu hazırlayarak bilim adamlarını tanıtmıştır. Aşağıda verilen görüşlerden hangisi bu bilim adamlarına ait olamaz?

- A) Dünya'nın küre şeklinde yuvarlak olduğunu söylemeleri.
- B) Dünya'nın kendi çevresinde döndüğünü söylemeleri.
- C) Dünya'nın düz ve öküzün boynuzlarında olduğunu söylemeleri.



8. Oyun hamuru ile yandaki çalışmayı yapan Melis aşağıdakilerden hangisini göstermek istemiştir?

- A) Dünya'nın şeklini
- B) Dünya'nın katmanlarını
- C) Dünya'nın oluşumunu



9. Bir strafor topunu keserek yandaki gibi boyayan Semih Berk Dünya'nın katmanlarını göstermiştir. Bu çalışmaya göre sarı renkle gösterilen Dünya'nın hangi katmandır?

- A) Çekirdek
- B) Manto
- C) Magma

10. 1 - Gözlemlenemeyen katmandır.

2- Yer kabuğunun altında bulunur.

3- Erimiş kayalardan oluşur.

Yukarıda Kumsal'in özelliklerini sıraladığı Dünya'nın hangi katmandır?

- A) Magma
- B) Çekirdek
- C) Ağır küre

11. 1 - Gözlemlenemeyen katmandır.

2- İç ve dış olmak üzere iki bölümden oluşur.

3- En sıcak ve en ağır katmandır.

Eylül'ün yukarıda sıraladığı özellikler Dünya'nın hangi bölümünü belirtmektedir?

- A) Manto
- B) Ağır küre
- C) Magma

12.1 - Dünya'nın gözlenebilen katmanıdır.

2- Deniz tabanları dahil tüm gezegeni kaplar.

3- Canlıların yaşam alanına en uzak katmandır.

**Yukarıda Aras'ın özelliklerini sıraladığı katman hangisidir?**

- A) Su küre  
B) Hava küre  
C) Yer kabuğu

13.1 - Dünya'nın üç tane gözlemlenebilir katmanı vardır.

2- Taş küre okyanusların dibinde de devam eder.

3- Canlılar yalnızca taş kürede yaşar.

4- Rüzgar, yağmur, fırtına hava kürede meydana gelir.

5- Su küre denizler, okyanuslar akarsular gibi su kütlelerinden oluşur.

**Yukarıda Bulut'un Dünya'nın katmanları ile ilgili sıraladığı bilgilerden kaç tanesi doğrudur?**

- A) 3 B) 5 C) 4

14.1 - Deprem, su kürenin bazı yerlerinin kırılıp yer değiştirmesiyle oluşur.

2- Su küre Dünya'nın 3/4'lük bir alanını kaplar.

3- Sularla çevrili büyük kara parçalarına okyanus denir.

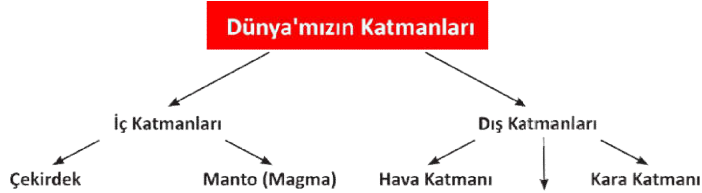
4- Hava küre üst sınırında uzay ile birleşmez.

5- Hava küreye aynı zamanda atmosfer adı verilir.

**Dünya'nın gözlenebilen katmanları ile ilgili Bilge Duru'nun verdiği bilgilerden kaç tanesi doğrudur?**


- A) 5 B) 3 C) 4

15.



**Yukarıdaki kavram haritasını hazırlayan Taha hangisini yazmayı unutmuştur?**

- A) Su katmanı  
B) Uzay katmanı  
C) Atmosfer katmanı



1 - Dünya'nın gazlardan oluşan en dış katmanıdır.

2- Dünya'nın okyanus, deniz ve göllerle kaplı alanı.

3- Dünya'nın taş, toprak gibi yapılardan oluşan katmanıdır.

**Yukarıdaki bulmacayı çözen Talha aşağıda verilen sözcüklerden hangisini yazmaz?**

- A) Ateş küre  
B) Su küre  
C) Taş küre




17. Pusat sınıfa yandaki gibi bir şeftali görseli getirdi. Görseli incelediğimizde şeftalinin kabuğunu, iç kısmını ve ortasındaki çekirdeğini görmekteyiz. **Dünya'nın bölümlerini göstermek isteyen Pusat hangisini bu görselle gösteremez?**

- A) Yer küre  
B) Hava küre  
C) Ağır küre



18. Dünya'nın katmanlarını göstermek isteyen Ceylin, leğenleri iç içe koymuştur. Buna göre en dıştaki leğen hangi katmanı gösterir?

- A) Hava küre  
B) Taş küre  
C) Su küre



19. Yandaki görselde Dünya'nın katmanları verilmiştir. **Bu görselle göre aşağıdaki eşleştirmelerden hangisi doğru değildir?**

- A) 4. Yer küre  
B) 3. Ateş Küre  
C) 2. Ağır küre

20.1 - Dünya'nın yüzeyi ..... ve ..... ile kaplıdır.

2- Dünya'nın etrafını saran katmana ..... adı verilir.

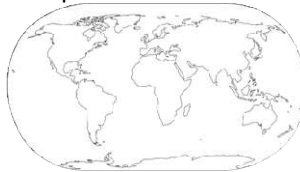
3- Hava katmanına ..... de denir.

4- Kara katmanı ....., ovalar, çöller ve deniz diplerinden oluşur.

5- Dünya yüzeyinde ..... karalardan daha fazla yer kaplar.

**Yukarıda verilen cümlelerde boş bırakılan yerleri tamamlayan Beren aşağıdaki sözcüklerden hangisini kullanmamıştır?**

- A) sular  
B) manto  
C) atmosfer



21. Yandaki Dünya haritasını boyamak isteyen Esila'nın hangi renkleri kullanması uygun olur?

- A) kırmızı-siyah  
B) beyaz-kırmızı  
C) mavi-yeşil