

Konu Testleri

Üçgen, Kare ve Dikdörtgenin Açıları Konu Değerlendirme Testi

1.  Yandaki şeklide aşağıdaki açı çeşitlerinden hangisi vardır?

- A) Dik açı
- B) Dar açı
- C) Geniş açı

2.  Yandaki şeklide aşağıdaki açı çeşitlerinden hangisi vardır?

- A) Dar açı
- B) Dik açı
- C) Geniş açı

3.  Yandaki şeklide aşağıdaki açı çeşitlerinden hangisi vardır?

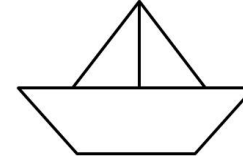
- A) Dik açı
- B) Dar açı
- C) Geniş açı

4.  Yandaki şeklide aşağıdaki açı çeşitlerinden hangisi yoktur?

- A) Dik açı
- B) Dar açı
- C) Geniş açı

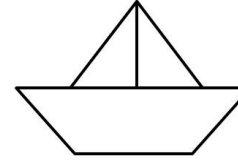
5.  Yandaki şeklide aşağıdaki açı çeşitlerinden hangisi yoktur?

- A) Dik açı
- B) Dar açı
- C) Geniş açı



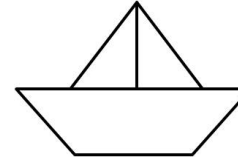
6. Yandaki şeklide kaç tane dik açı vardır?

- A) 2
- B) 4
- C) 6



7. Yandaki şeklide kaç tane dar açı vardır?

- A) 2
- B) 4
- C) 6



8. Yandaki şeklide kaç tane geniş açı vardır?

- A) 2
- B) 4
- C) 6

9. Aşağıdakilerden hangisinin bütün açıları dik açıdır?

- A) Üçgen
- B) Kare
- C) Beşgen

10. Aşağıdakilerden hangisinin bütün açıları dar açı olabilir?

- A) Dikdörtgen
- B) Kare
- C) Üçgen