

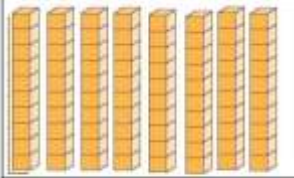



## Sayı Ve Basamak Değerleri -3-


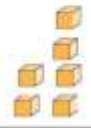
1. Aşağıdaki tabloları örneğe göre tamamlayınız.

		
	5 onluk	4 birlik
Sayı	5	4
Basamak Adları	Onlar basamağı	Birler basamağı
Rakamların Basamak Değeri	50	4

Sayının Okunuşu : .....

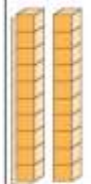

		
	..... onluk	..... birlik
Sayı	.....	.....
Basamak Adları	..... basamağı	..... basamağı
Rakamların Basamak Değeri	.....	.....

Sayının Okunuşu : .....

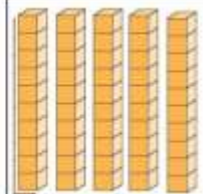

		
	..... onluk	..... birlik
Sayı	.....	.....
Basamak Adları	..... basamağı	..... basamağı
Rakamların Basamak Değeri	.....	.....

Sayının Okunuşu : .....



2. Aşağıdaki tabloları tamamlayınız.

		
	..... onluk	..... birlik
Sayı	.....	.....
Basamak Adları	..... basamağı	..... basamağı
Rakamların Basamak Değeri	.....	.....

Sayının Okunuşu : .....

		
	..... onluk	..... birlik
Sayı	.....	.....
Basamak Adları	..... basamağı	..... basamağı
Rakamların Basamak Değeri	.....	.....

Sayının Okunuşu : .....

		
	..... onluk	..... birlik
Sayı	.....	.....
Basamak Adları	..... basamağı	..... basamağı
Rakamların Basamak Değeri	.....	.....

Sayının Okunuşu : .....