

İTERAKTİF EĞİTİM  
Genel Değerlendirme -1 -

HAYAT BİLGİSİ

- Okulların açıldığı hafta aşağıdaki kutlama etkinliklerinden hangisi yapılır?  
A) Yeni Yıl  
B) İlköğretim Haftası  
C) Okuma Bayramı
- \*Farklılıklar yaşamın en güzel ..... dir.\* tümcesini en güzel hangi seçenek tamamlar?  
A) benzerlikleri  
B) eşsizlikleri  
C) zenginlikleri
- Aşağıdakilerden hangisi, seçmek istediğimiz bir arkadaşın özelliği olamaz?  
A) kavgacı  
B) saygılı  
C) dürüst
- Aşağıdaki davranışlardan hangisi, arkadaşlık ilişkilerimizi olumlu etkilemez?  
A) Hoşgörülü olmak  
B) Sabırsız olmak  
C) Anlayışlı olmak
- \*Okulumuzda başarılı olabilmek için derslerimize hazırlıklı gitmeliyiz. Araçlarımızı tam olarak yanımıza almalıyız.\* diyen Berna aşağıdakilerden hangisini yapar?  
A) Evde ders programına bakarak çantasını hazırlar.  
B) Ödevlerini okula geldiğinde yapar.  
C) Eksik araç gereçlerini okulda arkadaşlarından tamamlar.
- \*Arkadaşı saçını çekince Ceren; içinden ona kadar saydı sonra yüzünü yıkadı. Derin derin nefes alarak kendisini mutlu eden bir olayı düşündü.\* Ceren'in yapmak istediği aşağıdakilerden hangisidir?  
A) Etkili bir iletişim kurmak.  
B) Öfkesini kontrol etmek.  
C) Arkadaşlarını teselli etmek
- \*Sabah kahvaltı yapmadan okula geldiğimizde.....\* cümlesini aşağıdakilerden hangisiyle tamamlayabiliriz?  
A) Kendimizi daha zinde hissederiz.

- Derslerimizi daha iyi anlarız.  
C) Dikkat, çalışma ve öğrenme yeteneğimiz azalır.

- \*Etkili iletişim iyi bir konuşmacı ve iyi bir dinleyici olmayı gerektirir.\* Bu bilgiye göre aşağıdaki davranışlardan hangisi yanlıştır?  
A) Konuşulanları anladığımı karşımdakine belli etmem.  
B) Konuşmalarımda nezaket ifadeleri kullanırım.  
C) Söylediklerime inanarak, kendime güvenerek konuşurum.

TÜRKÇE

- \*Hikaye\* sözcüğünün eş anlamlısı aşağıdakilerden hangisidir?  
A) Öykü  
B) Roman  
C) Masal
  - Aşağıdaki cümlelerin hangisinde zıt anlamlı sözcükler bir arada kullanılmıştır?  
A) Hoşgörü ve yardımlaşma olumlu davranışlardır.  
B) Kapılar kapalı, pencereler açık olduğundan rahatladık.  
C) Hem bu ay hem de gelecek ay kontrolüm var.
  - \*El\* sözcüğü hangi cümlede farklı anlamda kullanılmıştır?  
A) Sen elin ağzına bakma  
B) Ay, elimi bir şey ısırdı!  
C) Beni el gibi göremezsin.
- Uyanıp kalktığımda çay hazır. Üst üste iki bardak çay içtim. İki dilim de yağlı ekmek yedim. Her yaptığı lezzetli olur annemin. Annem; \*Çabuk ol, geç kalırsın.\* dedi. Otobüse binecektim. Acele etmem, otobüsü kaçırmamam gerekiyordu.
- 1 2, 1 3, 1 4 ve 1 5. soruları yukarıdaki metne göre cevaplayınız.
  - Olayın yaşandığı yer aşağıdakilerden hangisidir?  
A) yazarın okulu  
B) yazarın evi  
C) yazarın iş yeri
  - Olayın yaşandığı zaman aşağıdakilerden hangisidir?  
A) öğleden sonra  
B) sabah  
C) akşam

www.testimiz.com



www.testimiz.com

## İTERAKTİF EĞİTİM

14. Olayın kahramanı niçin acele ediyordu?

- A) arkadaşı beklediği için
- B) canı sıkıldığı için
- C) otobüsü kaçırmamak için


15. Kahvaltıyı hazırlayan kimdir?

- A) okuldaki hizmetli
- B) yazarın annesi
- C) yazarın babası


16. "Bel sözcüğü hangi cümlede farklı anlamda kullanılmıştır?

- A) Bu bel çok ağır.
- B) Belin sapı kırıldı.
- C) Belim çok ağrıyor.


## MATEMATİK

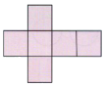
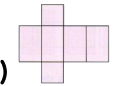

17.  Yandaki düzlemsel bölgelerden oluşan geometrik cisim aşağıdakilerden hangisidir?

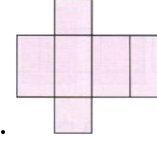
- A) Küp
- B) Silindir
- C) Üçgen prizma

18.  Yandaki düzlemsel bölgelerden oluşan geometrik cisim aşağıdakilerden hangisidir?

- A) Dikdörtgenler prizması.
- B) Kare prizma.
- C) Koni.

19.  Yandaki geometrik cismin açılımı aşağıdakilerden hangisidir?

- A) 
- B) 
- C) 



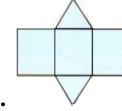
20. Yanda açılımı verilen geometrik cisim aşağıdakilerden hangisidir?

- A) Dikdörtgenler prizması.
- B) Kare prizma.
- C) Küp.

21. 4 dikdörtgen ve iki kareden oluşan geometrik cisim aşağıdakilerden hangisidir?

Yanda açılımı verilen geometrik cisim aşağıdakilerden hangisidir?

- A) Kare prizma
- B) Dikdörtgenler prizması
- C) Üçgen prizma.






22. Yanda açılımı verilen geometrik cisim aşağıdakilerden hangisidir?

- A) Koni
- B) Silindir
- C) Üçgen prizma.



23. "Benim 6 yüzeyim vardır. 2 yüzeyim karesel bölgeden, 4 yüzeyim ise dikdörtgensel bölgeden oluşmuştur. Buna göre ben hangi geometrik şekilim?"

- A) silindir
- B) koni
- C) kare prizma

24. Aşağıdakilerden hangisi bir doğrudur?

- A) 
- B) 
- C) 

25. Aşağıdakilerden hangisi bir ışındır?

- A) 
- B) 
- C) 