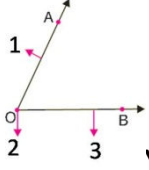


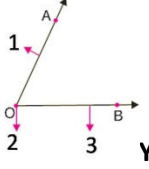
Konu Testleri

1.Dönem 1.Değerlendirme Testi



1. Yandaki şekilde 2 numara ile gösterilen bölüm hangisi ile adlandırılır?

- A) Açının köşesi
B) Açının kenarı
C) Açının konumu
D) Açının alanı



2. Yandaki şekilde 1ve 3 numara ile gösterilen bölümler hangisi ile adlandırılır?

- A) Açının yönleri
B) Açının kenarları
C) Açının köşeleri
D) Açının alanları

3. Aşağıdakilerden hangisi dar açıdır?

- A) 80
B) 92
C) 120
D) 145

4. Bir üçgenin iç açılarının ölçüleri toplamı kaç derecedir?

- A) 90
B) 180
C) 360
D) 250

5. Tam açıdan 60 derecelik açıyı çıkarırsak kaç derecelik açı olur?

- A) 300
B) 120
C) 100
D) 180

6. Aşağıdakilerden hangisi dar açıdır?

- A) 50
B) 98
C) 90
D) 78

7. Saatiniz tam üçü gösterirken oluşan açı kaç derecedir?

- A) 45
B) 100
C) 25
D) 90

8. Aşağıdakilerden hangisi dar açıdır?

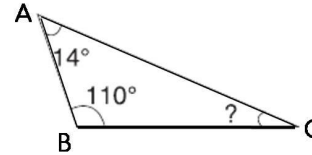
- A) 33 derece
B) 90 derece
C) 122 derece
D) 180 derece

9. İkizkenar bir üçgenin taban açılarından birisi 80 derecedir. Tepe açısı kaç derecedir?

- A) 20
B) 80
C) 30
D) 15

10. Aşağıdaki harflerin hangisi açı adı olamaz?

- A) N
B) Ç
C) b
D) Ş



11.

- A) Dar açılı üçgen
C) Dik açılı üçgen

Yandaki üçgen aşağıdakilerden hangisidir?

- B) Geniş açılı üçgen
D) Doğru açılı üçgen

