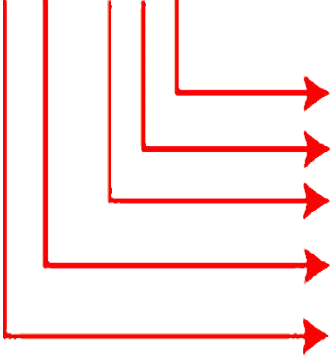




1. Aşağıda verilen sayıların basamak değerlerini bularak okunuşunu yazınız.

56 546



Basamak Adı

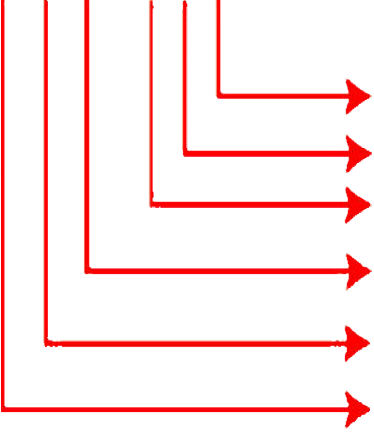
Basamak Değeri

..... Basamağı
..... Basamağı
..... Basamağı
..... Basamağı
..... Basamağı

...X 1 =
...X 10 =
...X 100 =
...X 1000 =
...X 10000 =

Okunuşu :

286 716



Basamak Adı

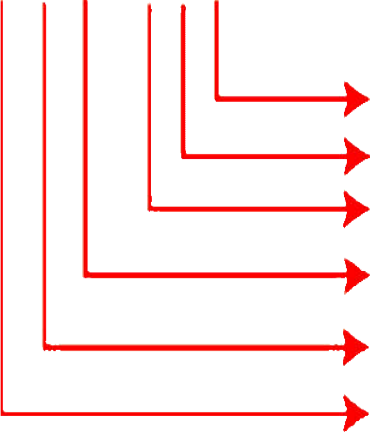
Basamak Değeri

..... Basamağı
..... Basamağı
..... Basamağı
..... Basamağı
..... Basamağı
..... Basamağı

...X 1 =
...X 10 =
...X 100 =
...X 1000 =
...X 10000 =
...X 100000 =

Okunuşu :

326 948



Basamak Adı

Basamak Değeri

..... Basamağı
..... Basamağı
..... Basamağı
..... Basamağı
..... Basamağı
..... Basamağı

...X 1 =
...X 10 =
...X 100 =
...X 1000 =
...X 10000 =
...X 100000 =

Okunuşu :

2. Aşağıdaki tabloları tamamlayınız.

Sayı	708 248					
Bölük adı	Binler bölümü				
Basamak adı	On binler
Basamak değeri	200	...	8
Sayının okunuşu					
Sayının çözümlenişi	$700\ 000 + 8\ 000 + 200 + 40 + 8$					

Sayı					
Bölük adı			Birler bölümü		
Basamak adı	Yüz binler
Basamak değeri
Sayının okunuşu					
Sayının çözümlenişi	$400\ 000 + 1\ 0\ 000 + 2\ 000 + 400 + 20 + 8$					

Sayı					
Bölük adı		
Basamak adı
Basamak değeri
Sayının okunuşu	Beş yüz kırk iki bin yedi yüz on iki					
Sayının çözümlenişi					

3. Aşağıda okunuşu verilen sayıları yazalım.

➤Yüz seksen bin altı yüz yetmiş

.....

➤Yedi yüz doksan iki bin dört

.....

➤Yüz elli bin beş yüz yirmi iki

.....

➤Beş yüz on dört bin yetmiş altı

.....

➤Dokuz yüz kırk yedi bin elli altı

.....

➤İki yüz atmış üç bin on yedi

.....

➤Sekiz yüz otuz dokuz bin yedi yüz

.....

➤On bin yirmi dokuz.

.....

➤Yedi yüz kırk sekiz bin yüz on beş

.....

➤Altı yüz atmış altı bin yetmiş bir

.....

➤Yüz yetmiş yedi bin yirmi beş

.....

➤Dört yüz otuz bin yüz on dokuz

.....

➤Yedi yüz elli iki bin iki yüz on altı

.....

➤İki yüz dokuz bin beş yüz kırk altı


.....

➤Üç yüz yirmi altı bin altı yüz altı


.....

4. Aşağıda verilen sayıların okunuşunu yazalım

➤ 1 73 023



➤ 221 047




➤ 457 202



➤ 393 223




➤ 545 607




➤ 778 170




➤ 611 708




➤ 848 020



➤ 597 008



➤ 472 362




➤ 266 824




➤ 954 400



➤ 680 202



➤ 739 603



➤ 567 003

