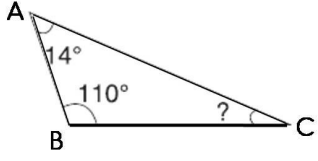
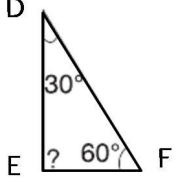


## Konu Testleri

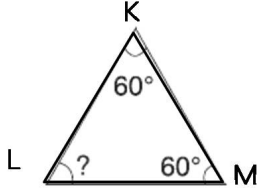
### Açılarına Göre Üçgen Çeşitleri Konu Değerlendirme Testi



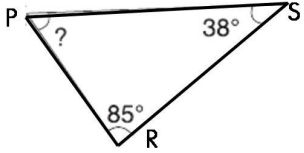
1. Yandaki üçgen aşağıdakilerden hangisidir?  
A) Dar açılı üçgen  
B) Geniş açılı üçgen  
C) Dik açılı üçgen  
D) Doğru açılı üçgen



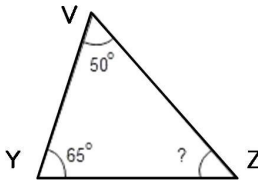
2. Yandaki üçgen aşağıdakilerden hangisidir?  
A) Dar açılı üçgen  
B) Geniş açılı üçgen  
C) Dik açılı üçgen  
D) Doğru açılı üçgen



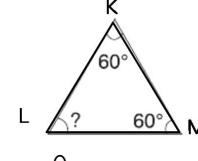
3. Yandaki üçgen aşağıdakilerden hangisidir?  
A) Dar açılı üçgen  
B) Geniş açılı üçgen  
C) Dik açılı üçgen  
D) Doğru açılı üçgen



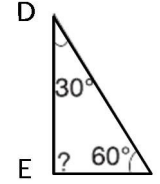
4. Yandaki üçgende verilmeyen açı hangisidir?  
A)  $53^\circ$   
B)  $57^\circ$   
C)  $65^\circ$   
D)  $72^\circ$



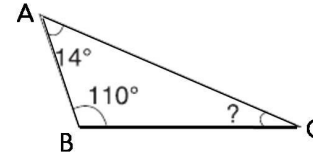
5. Yandaki üçgende verilmeyen açı hangisidir?  
A)  $50^\circ$   
B)  $55^\circ$   
C)  $65^\circ$   
D)  $75^\circ$



6. Yandaki üçgende verilmeyen açı hangisidir?  
A)  $50^\circ$   
B)  $55^\circ$   
C)  $60^\circ$   
D)  $65^\circ$



7. Yandaki üçgende verilmeyen açı hangisidir?  
A)  $90^\circ$   
B)  $100^\circ$   
C)  $110^\circ$   
D)  $120^\circ$



8. Yandaki üçgende verilmeyen açı hangisidir?  
A)  $53^\circ$   
B)  $57^\circ$   
C)  $65^\circ$   
D)  $56^\circ$

9. Açıları  $89^\circ$ ,  $41^\circ$  ve  $50^\circ$  derece olan üçgenin çeşidi aşağıdakilerden hangisidir?

- A) Dar açılı üçgen  
B) Geniş açılı üçgen  
C) Dik açılı üçgen  
D) Doğru açılı üçgen

10. Verilen açılarının ölçüsü 38 ve 43 derece olan üçgenin verilmeyen açısı aşağıdakilerden hangisidir?

- A)  $76^\circ$   
B)  $85^\circ$   
C)  $89^\circ$   
D)  $99^\circ$