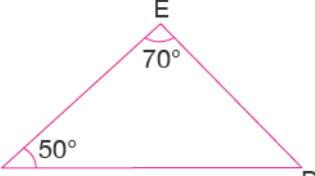
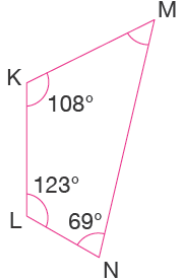


Konu Testleri

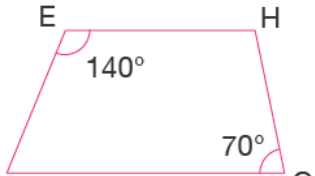
Üçgenin ve Dörtgenin Açıları Konu Değerlendirme Testi

1.  Yanda verilen DEF üçgeninde D iç açısının ölçüsü hangisidir?

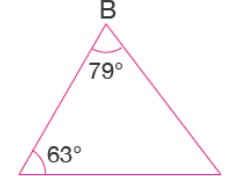
- A) 50°
B) 60°
C) 70°
D) 80°

2.  Yanda verilen KLMN dörtgeninde M iç açısının ölçüsü hangisidir?

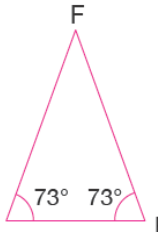
- A) 50°
B) 60°
C) 70°
D) 80°

3.  Yanda verilen EFGH yamuğunun F kaç derecedir?

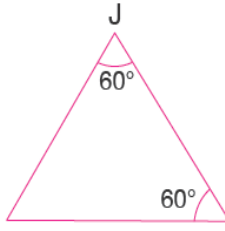
- A) 40°
B) 50°
C) 60°
D) 70°

4.  Yanda verilen ABC üçgeninde C iç açısının ölçüsü hangisidir?

- A) 38°
B) 36°
C) 47°
D) 50°

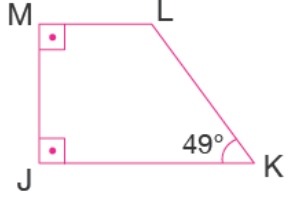
5.  Yanda verilen DEF üçgeninde F iç açısının ölçüsü hangisidir?

- A) 32°
B) 34°
C) 36°
D) 44°

6.  Yanda verilen GHJ üçgeninde G iç açısının ölçüsü hangisidir?

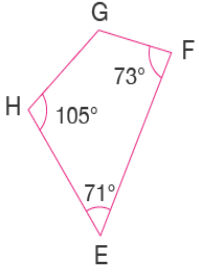
- A) 40°
B) 50°
C) 60°
D) 70°

Konu Testleri



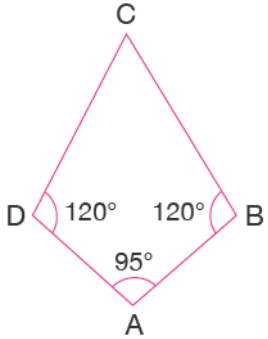
7. Yandaki çokgende L açısı kaç derecedir?

- A) 131°
- B) 132°
- C) 136°
- D) 144°



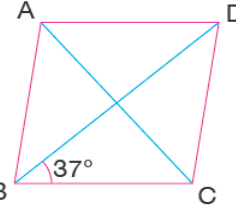
8. Yandaki çokgende G açısı kaç derecedir?

- A) 111°
- B) 112°
- C) 116°
- D) 124°



9. Yandaki çokgende C açısı kaç derecedir?

- A) 35°
- B) 45°
- C) 20°
- D) 25°



10.

- A) 96°
- B) 100°
- C) 106°
- D) 125°

Yandaki çokgende BCD açısı kaç derecedir?