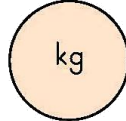


İnteraktif Eğitim  
4.Ünite Değerlendirme Etkinliği

1.  $37 \times 24$  işleminin sonucu aşağıdakilerden hangisidir?  
A) 898 B) 988 C) 888

2.  $49$  Yandaki çarpma işleminde sayıların basamaklarında  
 $\begin{array}{r} \times 1\Box \\ 245 \\ + 4\Box \\ \hline \Box 35 \end{array}$  verilmeyen rakamların toplamı kaçtır?  
A) 21 B) 14 C) 16

3. Hangi nesne hangisiyle tartılır? Eşleştiriniz.



4. Bu yıl mahallemizde düzenlenen panayırda küçük bir lunapark kuruldu. Ailece gittiğimiz lunaparkta çok eğlendik.

Oyuncaklar	Taşıyabileceği kilogramlar
Sandal	320
Dönme dolap	120
Çarpışan araba	105
Uçak	85



Aşağıdaki soruları tablolardaki verilere göre yanıtlayınız.

- Tüm aile birlikte hangi oyuncuğa binebiliriz?
- Selin ve babasının birlikte binemeyeceği oyuncaklar hangisidir?
- Anneyle Bahadır çarpışan otoya binebilirler mi?
- Selin kiminle uçağa binebilir?

Aile bireyleri	Kilogramları
Anne	62
Baba	78
Selin	32
Bahadır	45

5. Soldaki sayıları 10 ile kısa yoldan çarpıp sonuçlarıyla eşleştiriniz.

28	410
91	630
40	280
75	750
63	910
	400





6. Birbiriyle eşit olan uzunlukları eşleştiriniz.

9 m 8 cm	2 m 16 cm
420 cm	7 m 45 cm
745 cm	3 m 30 cm
330 cm	908 cm
216 cm	4 m 20 cm
	980 cm
	3 m 3 cm

7. Top toplama yarışmasında 4 mor, 7 pembe, 11 mavi ve 9 kırmızı top kullanılmıştır.



Topların puanları tabloda gösterilmiştir. Verilenlerle ilgili üç problem kurunuz.

Toplar	Puan
	19
	6
	12
	8

8. 76 parçalık yapbozu 4 arkadaş birlikte yapacağız. Her birimize eşit sayıda kaç parça dağıtmam gerekir?

- A) 14                      B) 19                      C) 16

9. Verilen sayıların 7 ile bölümünden elde ettiğiniz bölüm ve kalanı uygun olanlarla eşleştiriniz.

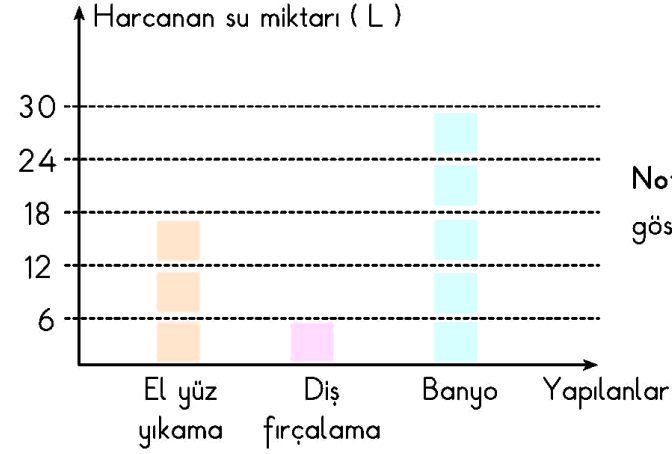
47 - 7
62
98
54
81

Bölüm	Kalan
6	5
14	0
12	3
11	4
7	6
8	6
7	5

10. Kumbaramdaki 89 YTL'nin 11 YTL'si bayram harçlıklarım, kalanı ise haftalık harçlıklarımdır. 6 hafta, harçlığımı hiç harcamadan biriktirdiğime göre harçlığım kaç YTL'dir?

- A) 18 YTL                      B) 13 YTL                      C) 15 YTL

11. Grafik: Ayhan'ın tükettiği su miktarı



Not: Her kutu 6 L'yi göstermektedir.

- a. Ayhan, el yüz yıkamak için kaç litre su kullanıyor?  
 b. Banyo yaparken kullandığı su, diş fırçalarken kullandığı sudan kaç litre fazladır?  
 c. El yüz yıkamak ve diş fırçalamak için toplam kaç litre su harcıyor?

