

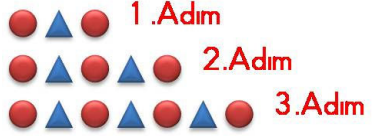
Konu Testleri

Örüntü Konu Değerlendirme Testi



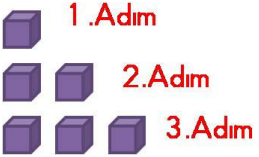
1. Yukarıdaki örüntünün 5.adımında kaç tane kare bulunur?

- A) 12 B) 14 C) 16




2. Yukarıdaki örüntünün 5.adımında kaç tane üçgen bulunur?

- A) 5 B) 6 C) 7



3. Yukarıdaki örüntünün 6.adımında kaç tane küp bulunur?

- A) 4 B) 5 C) 6



4. Yukarıdaki papatya çiçeğinin 5.adımında kaç tane yaprak bulunur?

- A) 4 B) 5 C) 6



5. Yukarıdaki örüntünün 6.adımında kaç tane yeşil üçgen olacaktır?

- A) 2 B) 3 C) 4

😊😊 1 .Adım

😊😊😊😊 2 .Adım

😊😊😊😊😊😊 3 .Adım

6. Yukarıdaki örüntünün 5.adımında kaç tane gülen yüz olur?

- A) 10 B) 12 C) 14



1 .Adım



2 .Adım



3 .Adım

7. Yukarıdaki örüntünün 5.adımında kaç tane kalp bulunur?

- A) 4 B) 5 C) 6

😊 1 .Adım

😊😊😊 2 .Adım

😊😊😊😊😊 3 .Adım

8. Yukarıdaki örüntünün 6.adımında kaç tane gülen yüz bulunur?

- A) 9 B) 10 C) 11



9. Yukarıdaki örüntünün 5.adımında kaç tane yıldız bulunur?

- A) 8 B) 12 C) 16

10. Bir örüntünün birinci adımında 1 nesne, ikinci adımında 3 nesne, üçüncü adımında 5 nesne vardır. Bu örüntünün 4. Adımında kaç tane nesne vardır?

- A) 6 B) 7 C) 8