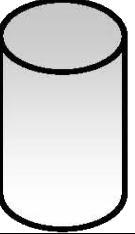


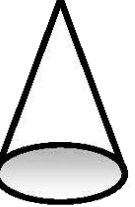
Konu Testleri

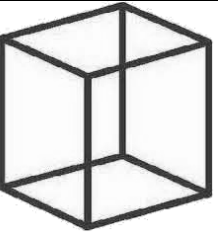
Geometrik Cisimler Kavrama Etkinliği


Aşağıdaki geometrik cisimleri inceleyerek boşlukları doldurunuz. Köşelerini maviye, ayrıtlarını kırmızıya ve yüzeylerini yeşil renge boyayınız.


Geometrik Cisim	Şeklin Adı	Özellikleri
	Adımdir. Ayrıtlarım..... Köşem Yüzeyim.....


Geometrik Cisim	Şeklin Adı	Özellikleri
	Adımdir. Ayrıtlarım..... Köşem Tabanlarım..... yüzey, yan yüzeylerim..... yüzeydir.

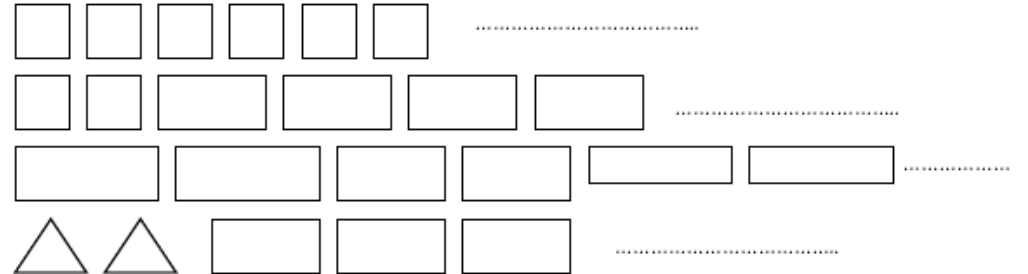
Geometrik Cisim	Şeklin Adı	Özellikleri
	Adımdir. Ayrıtlarım..... Köşem..... 2 ve 1noktam vardır.

Geometrik Cisim	Şeklin Adı	Özellikleri
	Adımtür. tane köşem vardır. tane ayrıtlarım vardır. tane yüzeyim vardır. Yüzlerim bölgedir.

Geometrik Cisim	Şeklin Adı	Özellikleri
	Adım dir. tane köşem vardır. tane ayrıtlarım vardır. tane yüzeyim vardır. Yan yüzlerimbölge, alt ve üst yüzlerim bölgedir.


Geometrik Cisim	Şeklin Adı	Özellikleri
	Adım dir. tane köşem vardır. tane ayrıtlarım vardır. tane yüzeyim vardır. Yüzlerimbölgedir.

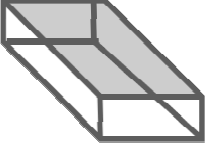
Geometrik Cisim	Şeklin Adı	Özellikleri
	Adım dir. tane köşem vardır. tane ayrıtlarım vardır. tane yüzeyim vardır. Yan yüzlerimbölge, alt ve üst yüzlerim bölgedir.

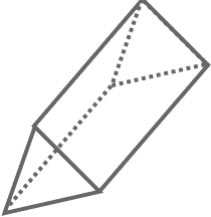



Konu Testleri

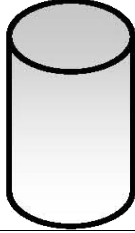
Aşağıdaki geometrik Cisimleri inceleyerek yanda verilen anahtar sözcüklerle boşlukları doldurunuz.

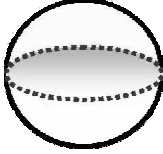
Geometrik Cisim	Özellikleri	Anahtar
	Küpün yüzü var. Küpün yüzleri bölgedir. Küpün 6 tane karesel bölgeden oluşan vardır.Küpün 6 yüzü birbirineyüzlerdir.köşesi vardır.....ayrıtı vardır.	sekiz karesel eş altı yüzeyi on iki

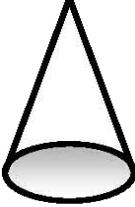
Geometrik Cisim	Özellikleri	Anahtar
	Dikdörtgenler Prizmasının: yüzü vardır. Yüzlerinin her biri bölgedir. Karşılıklı yüzleri eşittir. köşesi vardır. ayrıtı vardır.	altı sekiz dikdörtgenel birbirine on iki

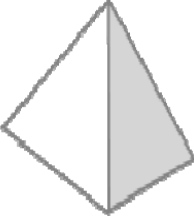
Geometrik Cisim	Özellikleri	Anahtar
	Üçgen Prizmanın: Üçgenel bölgeden oluşan yüzü vardır. Dikdörtgenel bölgeden oluşan yüzü vardır. 5 tane..... vardır. 6 tane.....vardır. tane ayrıtı vardır.	üç yüzeyi dokuz iki köşesi

Geometrik Cisim	Özellikleri	Anahtar
	Kare Prizmanın:..... yüzü vardır. Yüzlerinden 2'si bölgedir. Yüzlerinden 4'ü bölgedir. Alt ve üst yüzleri eşittir. Yan yüzleri eşittir. Sekiz , ayrıtı vardır.	karesel dikdörtgenel altı birbirine on iki köşesi eşittir

Geometrik Cisim	Özellikleri	Anahtar
	Silindirin: yüzü vardır. ve tabanı dairedir. Alt ve üst tabanı eşittir. Yan yüzü açılınca bölge olur.	birbirine dikdörtgenel alt, üst uç

Geometrik Cisim	Özellikleri	Anahtar
	Kürenin: yoktur. yoktur. Yalnız yüzeyi vardır.	köşesi ayrıtı eğri

Geometrik Cisim	Özellikleri	Anahtar
	Koninin: yüzü vardır. yoktur. yoktur. Alt yüzüşeklindedir. Üst tarafı yüzeydir.	iki ayrıtı köşesi daire eğri

Geometrik Cisim	Özellikleri	Anahtar
	Piramidin: yüzü vardır. köşesi vardır. Tabanıdir. kenarı vardır. Yan yüzeyleri eş dört.....dir.	beş kare üçgen sekiz beş