

İTERAKTİF EĞİTİM

Genel Değerlendirme -3-

HAYAT BİLGİSİ

1. Arkadaş seçerken dikkat etmemiz gereken durumlar vardır. Aşağıdakilerden hangisi arkadaş seçiminde dikkat edilmesi gereken önemli özelliktir?
A) Aysen'in yüzünün çilli olması B) Emir'in başarılı öğrenci olması
C) Lara'nın güvenilir birisi olması
2. "Emirhan, okulunu değiştirmek zorunda kalmıştı. Eski arkadaşlarını özliyordu. Yeni okulunda çok az arkadaşı vardı. Oyunlara katılmıyor, arkadaşları oyuna çağırıyordu. Öğretmenine de durumu anlatmaya çekiniyordu..
Yukarıdaki duruma göre Emirhan'ın **asıl sorunu** nedir?
A) Okulunu değiştirmek
B) Yeni arkadaşlarıyla iletişim kuramamak
C) Eski arkadaşlarını özlemek
3. "İhtiyaç ve isteklerimizi ifade ederken başkalarına karşı..... olmalıyız..
Cümlesinde boş bırakılan yerlere aşağıdakilerden hangisi yazılmalıdır?
A) saygılı B) sabırsız C) dedikoducu
4. Bir yerin kuş bakışı görünüşünün kâğıt üzerine çizilmesine ne denir?
A) kroki B) harita C) plan
5. Okulun tarihçesi ile ilgili araştırma yapan bir öğrenci, aşağıdakilerden hangisine **ulaşamaz**?
A) Okulumuzdan mezun olan ünlü sanatçı ve politikacı vardır.
B) Milli Eğitim Bakanı okulumuza gelecektir.
C) Okulumuz iki kez onarım geçirmiştir.

KİTAPLIK		TAHTA				C-K	
PENCERE		OĞRETMEN MASASI				KAPİ	
1	2	11	12	21	22	SINIF PANZURU	
3	4	13	14	23	24		
5	6	15	16	25	26		
7	8	17	18	27	28		
9	10	19	20	29	30		

6. Yukarıdaki krokide Ayla ortadan 3. sıranın sağından oturduğuna göre kaç numarada oturmaktadır?

- A) 16 B) 18 C) 15

7. Özkan, pencere tarafından 4. sıranın solunda oturduğuna göre kaç numarada oturmaktadır?

- A) 7 B) 8 C) 17

8. Onur, kapı tarafından 4. sıranın sağında oturmaktadır. Orhan kaç numaralı sırada oturmaktadır?

- A) 27 B) 28 C) 29

TÜRKÇE

ÜÇ ARKADAŞ

Biz üç arkadaşız. Ben, Ali, Hasan bir de Mustafa. Ben tornacıda çalışırım. Ustam zaman zaman arabaları da onarır. Hasan kahvecinin yanında çalışır. Ona buna çay, kahve taşır. En zor iş Mustafa'nın. Çünkü sabahdan akşama kadar ayakta çalışır. Durmadan demir döver.

Aşağıdaki üç soruyu yukarıdaki metne göre cevaplayın .

9. Ali ne iş yapıyor?

- A) Tornacı B) Demirci

C) Kahveci

10. Arabaları onaran kimdir?

A) Mustafa'nın ustası

B) Ali'nin ustası

C) Hasan

11. En zor işte kim çalışıyor?

A) Ali

B) Hüseyin

C) Mustafa

12. "Bir elin nesi var, iki elin sesi var.." atasözünün anlamı hangisiyle ilgilidir?

A) tutumlu olma ile

B) birlikte çalışma ile

C) verdiği sözü tutma ile

İTERAKTİF EĞİTİM

13. "Benim dişlerim bembeyaz dişlerimi fırçalıyorum.." cümlesinde boş bırakılan yere hangisi yazılmalıdır?

- A) bazen B) yarın
C) çünkü

14. "Kardeşimin okula kaydını dün yaptırdık.." cümlesine göre aşağıdaki soruların hangisinin cevabı *yoktur*?

- A) nasıl B) ne zaman
C) neyi

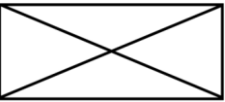
15. Aşağıdakilerin hangisinde *zıt anlamlı* sözcükler bir arada kullanılmıştır?

- A) Akıl yaşta değil, baştadır.
B) Ayağını yorganına göre uzat.
C) Allah gümüş kapıyı kapatırsa, altın kapıyı açar.

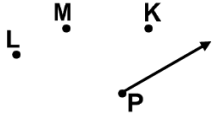
16. Aşağıdaki cümlelerin hangisinde *sebep-sonuç ilişkisi* vardır?

- A) Dedem her akşam bana masal okur.
B) O, bu okuldaki en temiz çocuktur.
C) Cetvel kullanmadığı için şekilleri güzel çizemedi.

MATEMATİK

17.  Yukarıdaki şekilde kaç tane geniş açı vardır?

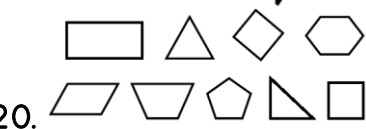
- A) 2 tane B) 4 tane C) 6 tane

18.  Yukarıdaki "P" noktasını hangi noktayla birleştirecek geniş açı elde ederiz?

- A) L B) M C) K

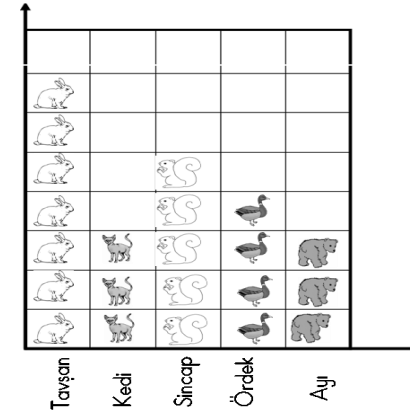
19. Aşağıdakilerden hangisi doğru açıdır?

A)  B)  C) 

20. 

Yukarıdaki şekillerden kaç tanesi geniş açıdır?

- A) 5 tane B) 4 tane
C) 3 tane



Her şekil 5 nesneyi gösterir.

21. Yukarıdaki grafikte kaç tane tavşan vardır?

- A) 25 B) 35
C) 20

22. Yukarıdaki grafikte kaç tane ördek vardır?

- A) 25 B) 35
C) 20

23. Yukarıdaki grafikte kaç tane sincap vardır?

- A) 25 B) 35
C) 20

24. Yukarıdaki grafikte hangi hayvanların sayıları birbirine eşittir?

- A) Ördek ile sincap
B) Ayı ile tavşan
C) Kedi ile ayı

25. Yukarıdaki grafikte kaç tane ayı vardır?

- A) 15 B) 25
C) 35