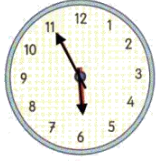
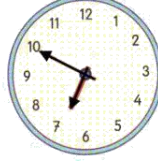


1. Aşağıdaki saatlerden hangisi 06:55'i göstermektedir?



A)



B)



C)

2. Aşağıdaki eşleştirmelerden hangisi yanlıştır?

A) 15 dakika= Çeyrek saat

B) 30 dakika= Yarım saat

C) 60 dakika= 2 saat

3. Aşağıdaki saatlerden hangisinin okunuşu yanlıştır?



A)

2'ye çeyrek var



B)

11'i 20 geçiyor



C)

8'i çeyrek geçiyor

4. Aşağıdakilerden hangisi yandaki saatin 15 dakika öncesidir?



A) 02:45

B) 03:15

C) 03:30

5. Aşağıdakilerden hangisi yandaki saatin 15 dakika sonrasıdır?



A) 06:45

B) 07:15

C) 11:55

6. Bir saatte akrep 12 ile 1'in arasında, yelkovan 6'yı gösteriyorsa saat kaçtır?

A) 06:00

B) 01:30

C) 12:30


7. Bir saat üzerinde akrep 7'nin üzerinde ve yelkovan 2'nin üzerinde ise saat kaç göstermektedir?

A) 07:10

B) 02:35


C) 07:30

8. Aşağıdaki saatlerin okunuşlarından hangisi yanlıştır?




A)

07:50



B)

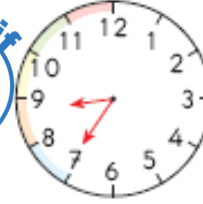
08:20



C)

06:55

9. Yandaki saat kaç göstermektedir?



A) 08:35

B) 09:35

C) 09:35

10. Aşağıdaki saatlerin hangisinde yelkovan ile akrebin konumu tam bir doğru oluşturur?

A) 06:00

B) 12:00

C) 06:30

11. Gündüz saati ile saat 09:15 ise gece saati ile aşağıdakilerden hangisini gösterir?

A) 20:15

B) 21:15

C) 22:15

12. Gündüz saati ile saat 06:25 ise gece saati ile aşağıdakilerden hangisini gösterir?

A) 18:25

B) 19:25

C) 06:25



13. Gece saati ile saat 22:10 ise gündüz saati ile saat kaçtır?
A) 20:10 B) 11:10 C) 10:10

14. Gece saati ile saat 17:45 ise gündüz saati ile saat kaçtır?
A) 05:45 B) 06:15 C) 18:15



15. Şekildeki saat gece saati ile kaç göstermektedir?
A) 20:00 B) 21:00 C) 22:00



16. Şekildeki saat gece saati ile kaç göstermektedir?
A) 04:30 B) 16:30 C) 05:30



17. Aşağıdakilerden hangisi yandaki saatin ifade ettiği zamanlardan birisi değildir?
A) 15:00 B) 05:00 C) 17:00



18. Aşağıdakilerden hangisi yandaki saatin ifade ettiği zamanlardan birisi değildir?
A) 00:45 B) 09:05 C) 12:45



19. Aşağıdakilerden hangisi yandaki saatin ifade ettiği zamanlardan birisi değildir?
A) 03:05 B) 01:15 C) 13:15

20. Aşağıdakilerden hangisi kadran üzerinde farklı gösterilir?
A) 04:15 B) 16:15 C) 14:15