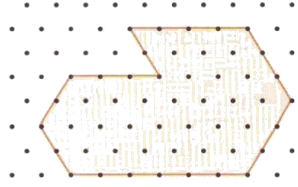
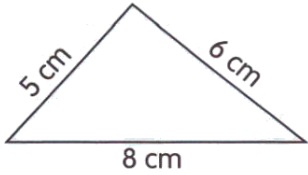


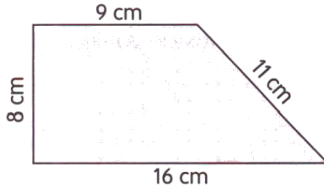
Çevre Hesaplama Süreç Değerlendirme -1 -



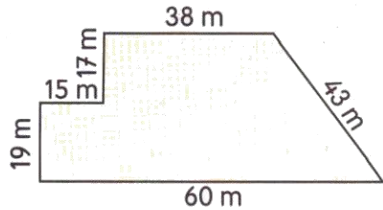
1. Yandaki şeklin çevresi kaç birimdir?
A) 23 br B) 24 br C) 25 br



2. Yandaki şeklin çevresi kaç santimetredir?
A) 16 cm B) 18 cm C) 19 cm

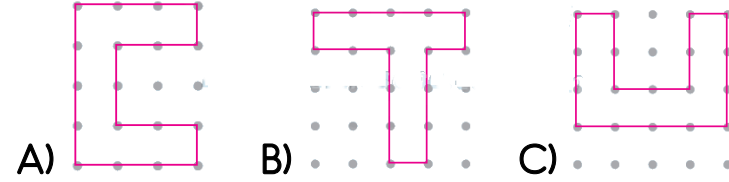


3. Yandaki şeklin çevresi kaç cm'dir?
A) 43 cm B) 44 cm C) 45 cm

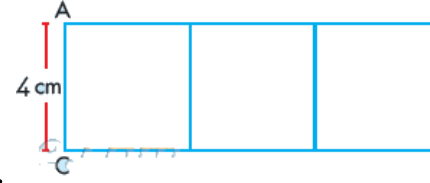


4. Yandaki şeklin çevresi kaç metredir?
A) 191 m B) 192 m C) 193 m

5. Aşağıdaki şekillerden hangisinin çevresi en uzundur?

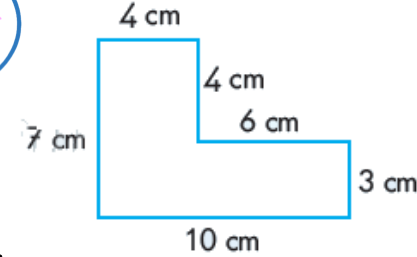


- A) B) C)



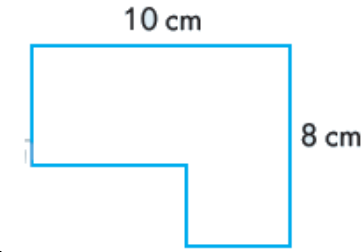
6. Yandaki şekil bir kenarı 4 cm olan üç karenin birleştirilmesinden oluşmuştur. Yeni şeklin çevresi kaç cm'dir?

- A) 32 cm B) 36 cm C) 48 cm



7. Yandaki şeklin çevresi kaç santimetredir?

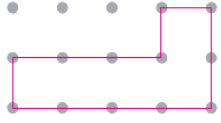
- A) 26 cm B) 31 cm C) 34 cm



8. Yandaki şeklin çevresi kaç santimetredir?

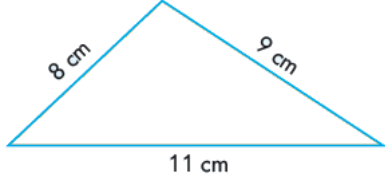
- A) 26 cm B) 32 cm C) 36 cm



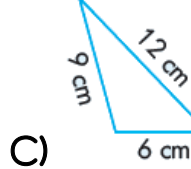
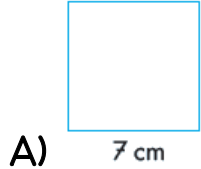


9. 1 birim 3 cm ise yandaki şeklin çevresi kaç cm'dir?

- A) 36 cm B) 42 cm C) 45 cm



10. Yandaki şeklin çevresi aşağıdaki şekillerden hangisinin çevresine eşittir?



11. Bir kenarı 6 birim olan karenin çevresi kaç birimdir?

- A) 36 br B) 24 br C) 18 br

12. Bir kenarı 8 cm olan karenin çevresi kaç cm'dir?

- A) 32 cm B) 48 cm C) 64 cm

13. Bir kenarı 5 cm olan üç kare yan yana getiriliyor. Yeni oluşan şeklin çevresi kaç cm olur?

- A) 15 cm B) 40 cm C) 60 cm

14. Uzun kenarı 16 cm ve kısa kenarı 9 cm olan dikdörtgenin çevresi kaç cm'dir?

- A) 50 cm B) 25 cm C) 144 cm

15. Uzun kenarı 12 birim ve kısa kenarı 8 birim olan dikdörtgenin çevresi kaç birimdir?

- A) 40 br B) 20 br C) 96 br

16. Bir kenarı 5 birim olan karede bir birim 3 cm ise bu karenin çevresi kaç cm'dir?

- A) 15 cm B) 20 cm C) 60 cm

17. Uzun kenarı 6 birim ve kısa kenarı 4 birim olan bir dikdörtgende her birim 5 cm ise bu dikdörtgenin çevresi kaç cm'dir?

- A) 30 cm B) 50 cm C) 100 cm

18. Uzun kenarı 125 cm ve kısa kenarı 75 cm olan karenin çevresi kaç metredir?

- A) 3 m B) 3 m C) 4 m

19. Uzun kenarı 145 cm ve kısa kenarı 85 cm olan bir masanın çevresi bir kenarı 75 cm olan kare şeklindeki bir sehpanın çevresinden ne kadar fazladır?

- A) 120 cm B) 144 cm C) 160 cm

20. Uzun kenarı 25 m ve kısa kenarı 15 m olan dikdörtgen şeklindeki bir bahçenin çevresine 3 sıra tel çekilmek isteniyor. Bu iş için kaç metre tel kullanılır?

- A) 340 m B) 240 m C) 400 m