



İTERAKTİF EĞİTİM
Ağırlık Ölçüleri Konu Değerlendirme Testi



1. Yandaki terazide kaç kilogram buğday vardır?
A) 500 g B) 750 g C) 1 000 g




2. Yandaki terazide ne kadar mercimek tartılmıştır?
A) 500 g B) 200 g C) 1 00 g



3. Yandaki terazide şekerin kütlesi ne kadardır?
A) 300 g B) 200 g C) 1 00 g



4. Yandaki terazide unun kütlesi ne kadardır?
A) 50 g B) 60 g C) 70 g



5. Yandaki terazide bulunan nohut torbalarından bir tanesi kaç gramdır?
A) 800 g B) 400 g C) 300 g



6. Yandaki terazide bulunan kahve paketlerinden bir tanesi kaç gramdır?
A) 1 00 g B) 200 g C) 300 g



7. Yandaki terazide bulunan ekmeklerden bir tanesi kaç gramdır?
A) 1 00 g B) 200 g C) 300 g



8. Yandaki terazide bulunan kuru yemiş paketlerinden bir tanesi kaç gramdır?
A) 50 g B) 75 g C) 1 00 g

9. 1 kilogram kaç grama eşittir?
A) 500 g B) 750 g C) 1 000 g

10. Yarım kilogram kaç grama eşittir?
A) 500 g B) 750 g C) 1 000 g