

Konu Testleri

9'ar Ritmik Sayma Konu Değerlendirme Testi

Aşağıdaki yüzlük tabloda 9'dan başlayarak 9'ar ritmik saymalarımızı boyyalım.

1	2	3	4	5	6	7	8	9	10
11	12	13	14	15	16	17	18	19	20
21	22	23	24	25	26	27	28	29	30
31	32	33	34	35	36	37	38	39	40
41	42	43	44	45	46	47	48	49	50
51	52	53	54	55	56	57	58	59	60
61	62	63	64	65	66	67	68	69	70
71	72	73	74	75	76	77	78	79	80
81	82	83	84	85	86	87	88	89	90
91	92	93	94	95	96	97	98	99	100

Aşağıdaki yüzlük tabloda 10'dan başlayarak 9'ar ritmik saymalarımızı boyyalım.

1	2	3	4	5	6	7	8	9	10
11	12	13	14	15	16	17	18	19	20
21	22	23	24	25	26	27	28	29	30
31	32	33	34	35	36	37	38	39	40
41	42	43	44	45	46	47	48	49	50
51	52	53	54	55	56	57	58	59	60
61	62	63	64	65	66	67	68	69	70
71	72	73	74	75	76	77	78	79	80
81	82	83	84	85	86	87	88	89	90
91	92	93	94	95	96	97	98	99	100


Aşağıdaki yüzlük tabloda 72'den geriye doğru 9'ar ritmik saymalarımızı boyyalım.

1	2	3	4	5	6	7	8	9	10
11	12	13	14	15	16	17	18	19	20
21	22	23	24	25	26	27	28	29	30
31	32	33	34	35	36	37	38	39	40
41	42	43	44	45	46	47	48	49	50
51	52	53	54	55	56	57	58	59	60
61	62	63	64	65	66	67	68	69	70
71	72	73	74	75	76	77	78	79	80
81	82	83	84	85	86	87	88	89	90
91	92	93	94	95	96	97	98	99	100


Aşağıdaki yüzlük tabloda 90'den geriye doğru 9'ar ritmik saymalarımızı boyyalım.

1	2	3	4	5	6	7	8	9	10
11	12	13	14	15	16	17	18	19	20
21	22	23	24	25	26	27	28	29	30
31	32	33	34	35	36	37	38	39	40
41	42	43	44	45	46	47	48	49	50
51	52	53	54	55	56	57	58	59	60
61	62	63	64	65	66	67	68	69	70
71	72	73	74	75	76	77	78	79	80
81	82	83	84	85	86	87	88	89	90
91	92	93	94	95	96	97	98	99	100

1. Aşağıdaki vagonlarda 9'dan başlayarak 9'ar ritmik saymaları yazalım.



2. Aşağıdaki vagonlarda 18'den başlayarak 9'ar ritmik saymaları yazalım.



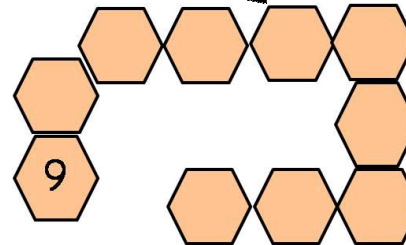
3. Aşağıdaki yüzlük tabloda 99'dan geriye doğru 9'ar ritmik saymalarımızı yazalım.



4. Aşağıdaki yüzlük tabloda 90'dan geriye doğru 9'ar ritmik saymalarımızı yazalım.



Aşağıdaki peteklerde 9'dan başlayarak 9'ar ileriye ritmik saymaları yazalım.



Aşağıdaki peteklerde 90'dan başlayarak 9'ar geriye ritmik saymaları yazalım.

