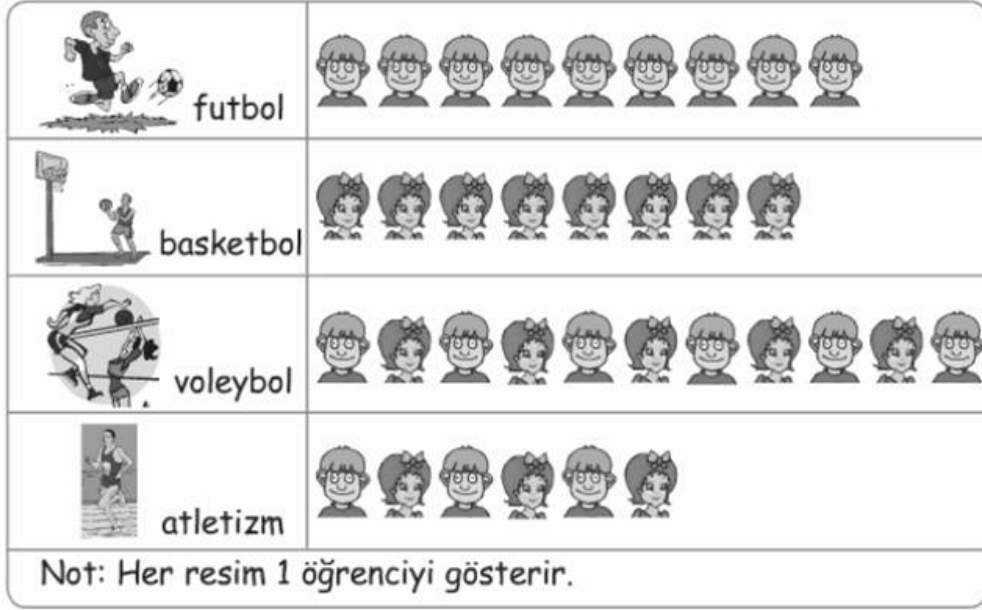


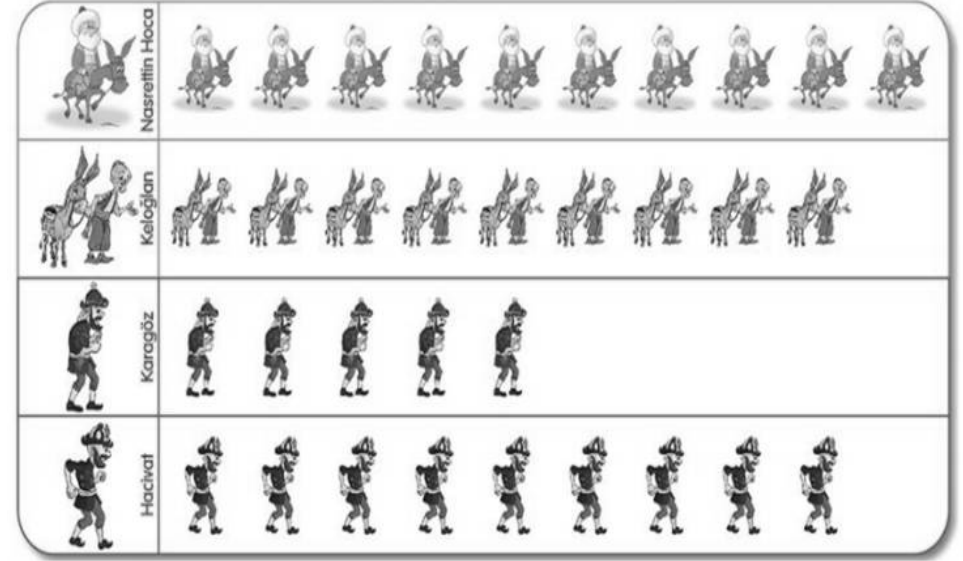
Konu Testleri
NESNE GRAFİĞİ -1 -

Aşağıdaki grafikte bir sınıftaki öğrencilerin sevdiği sporlar gösterilmiştir.



1. Kaç öğrenci futbolu sevmektedir?
2. Basketbolu seven kaç tane öğrenci vardır?
3. Voleybol seven kaç tane öğrenci vardır?
4. Atletizm seven kaç tane öğrenci vardır?
5. Hepsi ankete katıldığına göre bu sınıfın mevcudu kaçtır?.....
6. Kızlar en çok hangi sporla ilgilenmektedir?
7. Erkekler en çok hangi sporla ilgilenmektedir?
8. Voleybol sevenler basketbol sevenlerden ne kadar fazladır?
9. Bu sınıfta kaç tane kız öğrenci vardır?.....
10. Bu sınıfta kaç tane erkek öğrenci vardır?

Aşağıda bir sınıftaki öğrencilerin sevdiği kitap karakterleri gösterilmiştir.









































Her karakter bir kişiyi göstermektedir.

1. Nasrettin Hoca karakterini seven kaç tane öğrenci vardır?
2. Keloğlan karakterini seven kaç tane öğrenci vardır?
3. Karagöz karakterini seven kaç tane öğrenci vardır?
4. Hacivat karakterini seven kaç tane öğrenci vardır?
5. Hacivat'ı sevenler Karagöz'ü sevenlerden kaç tane fazladır?.....
6. Hacivat ve Karagöz'ü seven öğrenci sayısı kaçtır?.....
7. Nasrettin Hoca ile Keloğlan'ı seven öğrenci sayısı kaçtır?
8. Nasrettin Hoca ile Keloğlan'ı sevenler Karagöz ile Hacivat'ı sevenlerden kaç tane fazladır?
9. Hepsi ankete katıldığına göre bu sınıfın mevcudu kaçtır?

Konu Testleri





































Çiftlikteki Hayvanlar

	inek	at	koyun	keçi	ördek	tavuk	hindi
Hayvan sayısı							
							
							
							
							
							
							
							
							
							

Her şekil bir hayvanı göstermektedir.

1. Kaç tane inek vardır?.....
2. Çiftlikte kaç tane koyun vardır?.....
3. Çiftlikte kaç tane tavuk vardır?.....
4. Çiftlikte kaç tane keçi vardır?.....
5. Çiftlikte kaç tane hindi vardır?.....
6. Ördek, tavuk ve hindilerin toplamı kaçtır?
7. Koyunlar ineklerden kaç tane fazladır?
8. Tavuklar ördeklerden kaç tane fazladır?
9. Çiftlikte en fazla hangi hayvan vardır?
10. Hangi hayvanların sayısı eşittir?
11. Çiftlikte toplam kaç tane hayvan vardır?

Sınıfımızdaki Öğrencilerin En Çok Sevdiği Meyveler

Elma	      
Portakal	   
Muz	       
Çilek	     
Armut	 
Üzüm	    
Erik	
Şeftali	  

(Her şekil 1 varlığı gösterir.)

1. En çok sevilen meyve hangisidir?
2. En az sevilen meyve hangisidir?
3. Çilek seven öğrenci sayısı kaçtır?
4. Elma seven öğrenci sayısı kaçtır?
5. Üzüm seven öğrenci sayısı kaçtır?
6. Şeftali seven öğrenci sayısı kaçtır?
7. Muz seven öğrenci sayısı kaçtır?
8. Portakal seven öğrenci sayısı kaçtır?
9. Elma ve muz seven öğrencilerin sayısı kaçtır?
10. Çilek seven öğrenciler şeftali seven öğrencilerden ne kadar fazladır?
11. Sınıf mevcudu kaçtır?