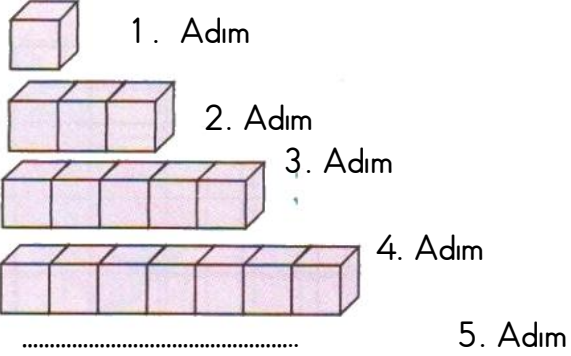
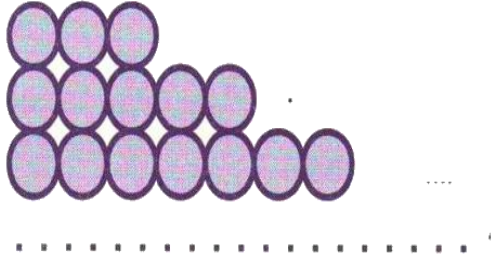



1. Aşağıdaki örüntüyü tamamlayınız.



2. Aşağıdaki örüntüyü uygun şekilde tamamlayınız.




3. Aşağıdaki örüntüyü uygun şekilde tamamlayınız.



4. Aşağıdaki örüntüyü uygun şekilde tamamlayınız.



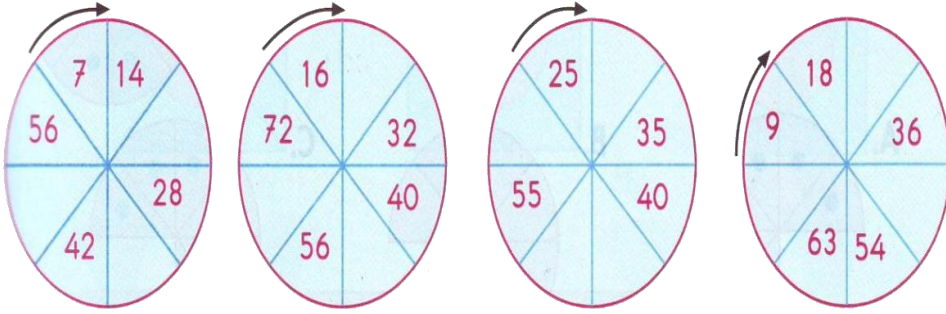
5. Aşağıdaki örüntüyü uygun şekilde tamamlayınız.



6. Aşağıdaki örüntüyü uygun şekilde tamamlayınız.



7. Aşağıdaki dairelerde eksik bırakılan sayı örüntülerini tamamlayınız.



8. Aşağıdaki örüntüsünde boş bırakılan yere gelecek sayıyı ve kuralını yazınız.

35 - 42 - - 56 - 63 Kuralı:

9. Aşağıdaki örüntüsünde boş bırakılan yere gelecek sayıyı ve kuralını yazınız.

60 - 68 - - 84 - 92 Kuralı:

10. Aşağıdaki örüntüsünde boş bırakılan yere gelecek sayıyı ve kuralını yazınız.

18 - - 30 - 36 - 42 Kuralı:

11. Aşağıdaki örüntüsünde boş bırakılan yere gelecek sayıyı ve kuralını yazınız.

24 - 29 - 34 - - 44 Kuralı:

12. Aşağıdaki örüntüsünde boş bırakılan yere gelecek sayıyı ve kuralını yazınız.

72 - 80 - 88 - - 104 Kuralı:

13. Aşağıdaki örüntüsünde boş bırakılan yere gelecek sayıyı ve kuralını yazınız.

49 - - 67 - 76 - 85 Kuralı:

14. Aşağıdaki örüntüsünde boş bırakılan yere gelecek sayıyı ve kuralını yazınız.

27 - 36 - 45 - 54 - Kuralı:

15. Aşağıdaki örüntüsünde boş bırakılan yere gelecek sayıyı ve kuralını yazınız.

67 - - 75 - 79 - 83 Kuralı:

16. Aşağıdaki örüntüsünde boş bırakılan yere gelecek sayıyı ve kuralını yazınız.

21 - - 35 - 42 - 49 Kuralı:

17. Aşağıdaki örüntüsünde boş bırakılan yere gelecek sayıyı ve kuralını yazınız.

..... - 62 - 71 - 80 - 89 Kuralı:

18. Aşağıdaki örüntüsünde boş bırakılan yere gelecek sayıyı ve kuralını yazınız.

35 - 41 - - 53 - 59 Kuralı:

19. Aşağıdaki örüntüsünde boş bırakılan yere gelecek sayıyı ve kuralını yazınız.

4 - 12 - 20 - 28 - Kuralı:

