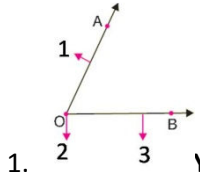


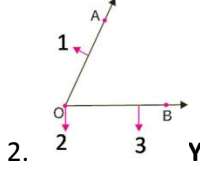
## Konu Testleri

### Açının Özellikleri Konu Değerlendirme Testi



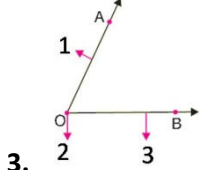
1. Yandaki şekilde 2 numara ile gösterilen bölüm hangisi ile adlandırılır?

- A) Açının köşesi  
B) Açının kenarı  
C) Açının konumu  
D) Açının alanı



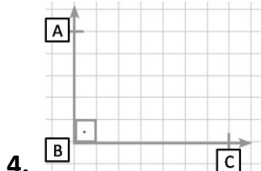
2. Yandaki şekilde 1ve 3 numara ile gösterilen bölümler hangisi ile adlandırılır?

- A) Açının yönleri  
B) Açının kenarları  
C) Açının köşeleri  
D) Açının alanları



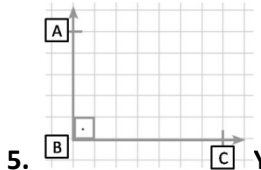
3. Yandaki şekildeki açı aşağıdakilerden hangisi ile adlandırılmaz?

- A) O açısı  
B) AOB açısı  
C) BOA açısı  
D) AB açısı



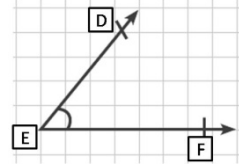
4. Aşağıdakilerden hangisi yandaki açının kenarlarından birisi değildir?

- A) BC  
B) AB  
C) CB  
D) AC



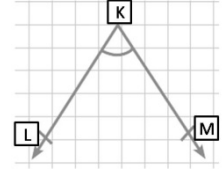
5. Yandaki açı aşağıdakilerden hangisi ile adlandırılır?

- A) A açısı  
B) B açısı  
C) C açısı  
D) AB açısı



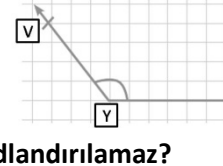
6. Yandaki şekildeki açı aşağıdakilerden hangisi ile adlandırılmaz?

- A) E açısı  
B) DEF açısı  
C) FDE açısı  
D) FED açısı



7. Yandaki şekildeki açı aşağıdakilerden hangisi ile adlandırılmaz?

- A) KLM açısı  
B) MKL açısı  
C) LKM açısı  
D) K açısı



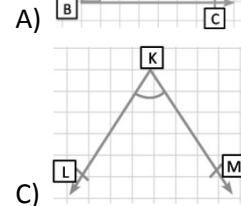
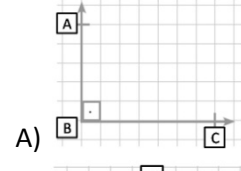
8. Yandaki şekildeki açı aşağıdakilerden hangisi ile adlandırılmaz?

- A) VYZ açısı  
B) ZYV açısı  
C) Y açısı  
D) V açısı

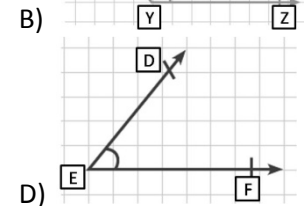
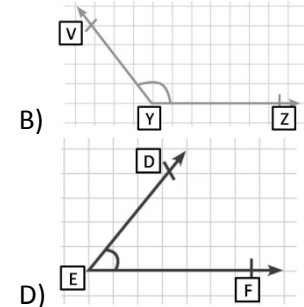
9. Açığı aşağıdakilerden hangisi ile ölçebiliriz?

- A) Pergel  
B) Açı ölçer  
C) Cetvel  
D) Metre

10. Aşağıdakilerden hangisi diğerlerinden daha büyüktür?



C)



D)