

Konu Testleri

Açı ve Açı Çeşitleri Konu Değerlendirme Testi

1-  Yandaki açının çeşidi aşağıdakilerden hangisidir?

- A) Dar açı
- B) Dik açı
- C) Geniş açı

2-  Yandaki açının çeşidi aşağıdakilerden hangisidir?

- A) Doğru açı
- B) Büyük açı
- C) Geniş açı

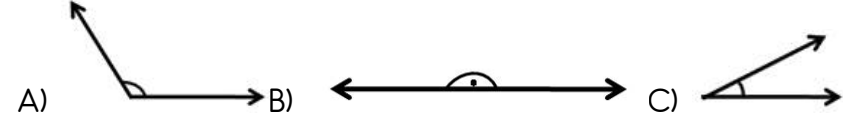
3-  Yandaki açının çeşidi aşağıdakilerden hangisidir?

- A) Dar açı
- B) Dik açı
- C) Geniş açı

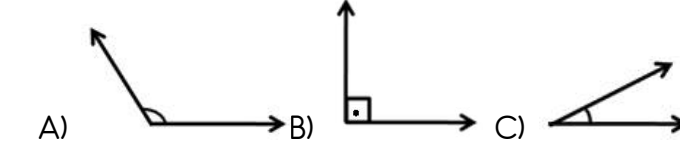
4-  Yandaki açının çeşidi aşağıdakilerden hangisidir?

- A) Dar açı
- B) Dik açı
- C) Geniş açı

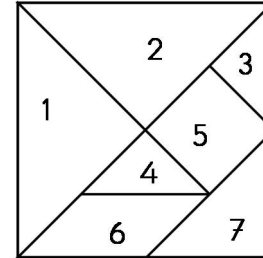
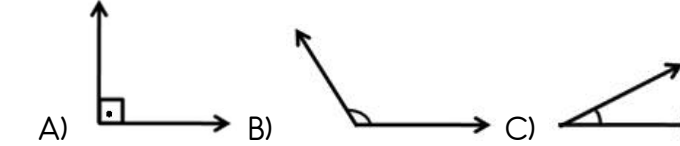
5. Aşağıdakilerden hangisi doğru açıdır?



6. Aşağıdakilerden hangisi geniş açıdır?



7. Aşağıdakilerden hangisi dar açıdır?



8. Yukarıdaki tangrama göre hangi bölgenin bütün açıları dik açıdır?

- A) 4
- B) 5
- C) 6

9. Yukarıdaki tangramda hangisinde geniş açı vardır?

- A) 5
- B) 6
- C) 7

10. Yukarıdaki tangrama göre dar açı yoktur?

- A) 5
- B) 6
- C) 7

www.konutestleri.com