

Konu Testleri

Simetri Açıları Konu Değerlendirme Testi

1.  Yandaki nesnelere hangisinin simetrisi vardır?

- A) I
- B) II
- C) III

2.  Yandaki nesnelere hangisinin simetrisi yoktur?

- A) I
- B) II
- C) III

3.  Yandaki yıldızlardan hangisinin simetrisi yanlış çizilmiştir?

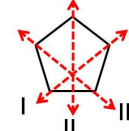
- A) I
- B) II
- C) III

4.  Yandaki dairelerden hangisinin simetrisi doğru çizilmiştir?

- A) I
- B) II
- C) III

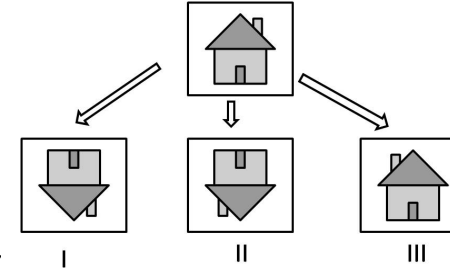
5.  Yandaki yıldızlardan hangisinin simetrisi yanlış çizilmiştir?

- A) I
- B) II
- C) III



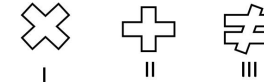
6. Yandaki nesne üzerine çizilen doğrulardan hangisi simetri oluşturur?

- A) I
- B) II
- C) III



7. Üsteki resmin altta simetri görüntüleri verilmiştir. Hangisi yanlıştır?

- A) I
- B) II
- C) III



8. Yandaki şekillerden hangisinin simetrisi yoktur?

- A) I
- B) II
- C) III

9. Aşağıdaki harflerden hangisinin simetrisi yoktur?

- A) M
- B) Y
- C) Ş

10. Aşağıdaki rakamlardan hangisinin simetrisi vardır?

- A) 8
- B) 7
- C) 6