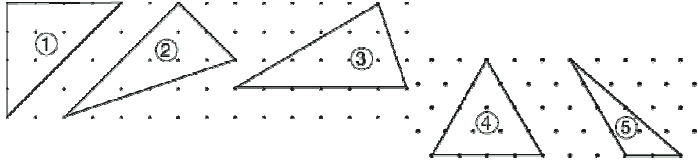


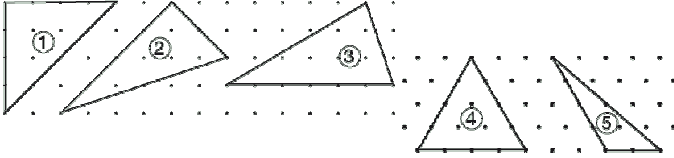
## Konu Testleri

### 3.Ünite Değerlendirme Testi



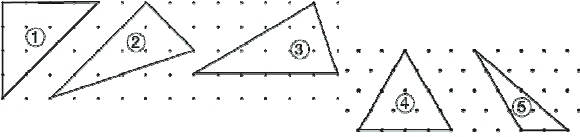
1. Yukarıdaki üçgenlerden hangisi eş kenar üçgendir?

- A) 2
- B) 3
- C) 4
- D) 5



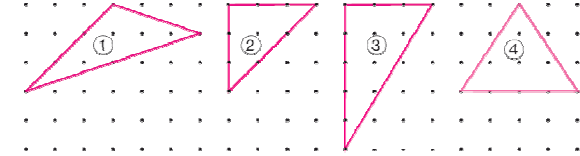
2. Yukarıdaki üçgenlerden hangisi ikiz kenar üçgendir?

- A) 1
- B) 2
- C) 3
- D) 4



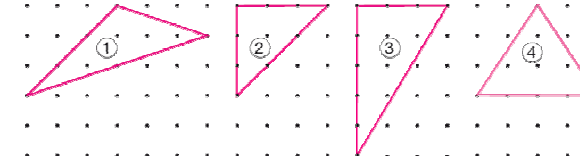
3. Yukarıdaki üçgenlerden hangisi çeşit kenar üçgen değildir?

- A) 5
- B) 4
- C) 3
- D) 2



4. Yukarıdaki üçgenlerden kaç tanesi dik açılı üçgendir?

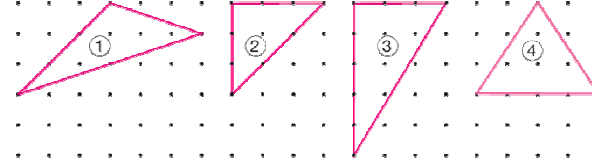
- A) 1
- B) 2
- C) 3
- D) 4



5. Yukarıdaki üçgenlerden hangisi geniş açılı üçgendir?

- A) 4
- B) 3

- C) 2
- D) 1

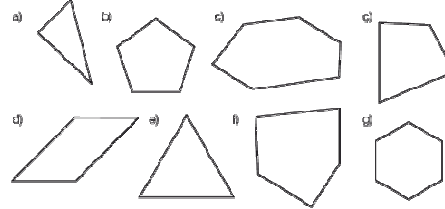


6. Yukarıdaki üçgenlerden hangisi dar açılı üçgendir?

- A) 1
- B) 2
- C) 3
- D) 4

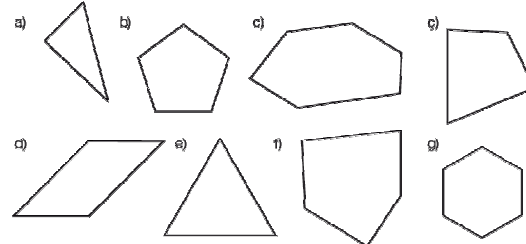
7. Bütün açıları dar ve eşit olan üçgen çeşidi hangisidir?

- A) Dar Üçgen
- B) Çeşit Kenar Üçgen
- C) Eş Kenar Üçgen
- D) Dik Üçgen



8. Yukarıdaki geometrik şekillerden kaç tane düzgün çokgendir?

- A) 2
- B) 3
- C) 4
- D) 5



9. Yukarıdaki geometrik şekillerden hangileri düzgün çokgen değildir?

- A) a-b-d
- B) c-ç-f
- C) d-ç-f
- D) a-b-c

10. Aşağıdakilerden hangisi düzgün çokgen değildir?

- A-Dikdörtgen
- B-Çeşit Kenar Üçgen
- C-Yamuk
- D-Paralel Kenar



11. Yukarıdaki geometrik şekillerden hangisine 'Eşkenar Dörtgen' denir?

- A) 1

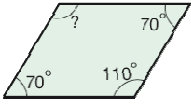
## Konu Testleri

- B) 2  
C) 3  
D) 4



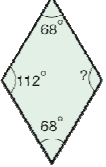
12. Yukarıdaki geometrik şekillerden hangisine 'Paralel Kenar' denir?

- A) 5  
B) 3  
C) 2  
D) 1



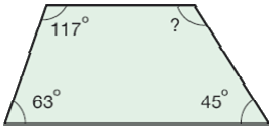
13. Yukarıdaki şekilde verilmeyen açı kaç derecedir?

- A-70  
B-80  
C-90  
D-110



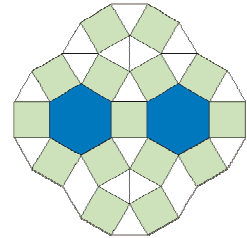
14. Yukarıdaki şekilde verilmeyen açı kaç derecedir?

- A-68  
B-112  
C-78  
D-92



15. Yukarıdaki şekilde verilmeyen açı kaç derecedir?

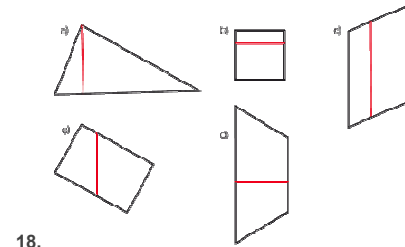
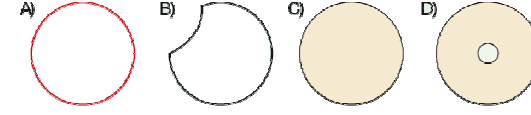
- A-117  
B-125  
C-135  
D-180



16. Yukarıdaki süslemede aşağıdaki geometrik şekillerden hangisi kullanılmamıştır?

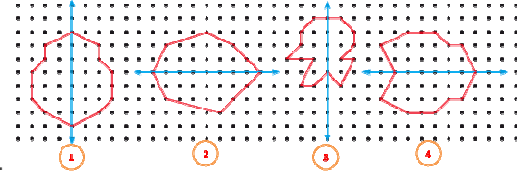
- A-Üçgen  
B-Kare  
C-Beşgen  
D-Altıgen

17. Aşağıdakilerden hangisi çemberdir? A



18. Yukarıdaki şekillerden hangileride yükseklik yanlış çizilmiştir?

- A- c-ç  
B-b-c  
C-a-d  
D-ç-d



19. Yukarıdaki şekillerden hangilerinin simetri doğrusu doğru çizilmiştir?

- A-1-2  
B-1-3  
C-2-4  
D-1-4

20. I. Karenin tüm açıları 90°dir.

II. Dikdörtgenin karşılıklı kenar uzunlukları birbirine eşittir.

III. Karenin tüm kenarları eşit uzunluktadır.

Yukarıdakilerden hangisi ya da hangileri kare ve dikdörtgeni ayırt etmemizi sağlayan bir özelliktir?

- A-I - II  
B-II - III  
C-Yalnız II  
D-Yalnız III