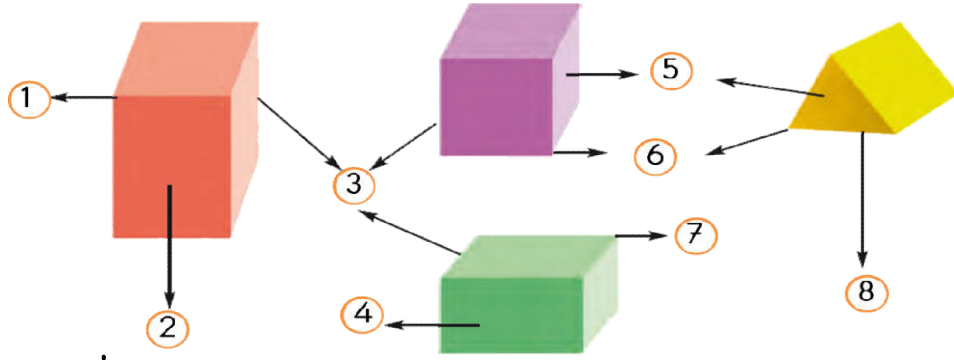
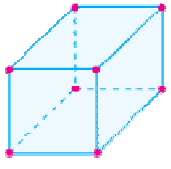


GEOMETRİK CİSİMLER DEĞERLENDİRME

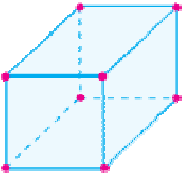


İlk 6 soruyu yukarıdaki resme göre cevaplayınız.

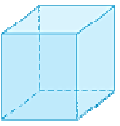
1. Yukarıdaki resimde 6 rakamı ile gösterilen aşağıdakilerden hangisidir?
A) Köşe B) Ayrıt C) Yüzey
2. Yukarıdaki resimde 3 rakamı ile gösterilen aşağıdakilerden hangisidir?
A) Köşe B) Ayrıt C) Yüzey
3. Yukarıdaki resimde 4 rakamı ile gösterilen aşağıdakilerden hangisidir?
A) Köşe B) Ayrıt C) Yüzey
4. Yukarıdaki resimde ayrıtları gösteren rakamlar hangileridir?
A) 3 ve 8 B) 2,4ve 5 C) 1 ve 6
5. Yukarıdaki resimde geometrik cisimlerin yüzlerini gösteren rakamlar hangileridir?
A) 3 ve 8 B) 2,4ve 5 C) 1 ve 6
6. Yukarıdaki resimde geometrik cisimlerin köşelerini gösteren rakamlar hangileridir?
A) 3 ve 8 B) 2,4ve 5 C) 1 ve 6



7. Yandaki şekilde kırmızı nokta ile gösterilen aşağıdakilerden hangisidir?
A) Ayrıt B) Yüz C) Köşe



8. Yandaki şekilde çizgi ile gösterilen aşağıdakilerden hangisidir?
A) Ayrıt B) Yüz C) Köşe






9. Yandaki geometrik cisim aşağıdakilerden hangisidir?
A) Kare prizma B) Küp C) Dikdörtgen prizma




10. Yandaki geometrik cisim aşağıdakilerden hangisidir?
A) Kare prizma B) Küp C) Dikdörtgen prizma

11.  Yandaki geometrik cisim aşağıdakilerden hangisidir?
A) Üçgen prizma B) Küp C) Kare prizma

12. Aşağıdakilerden hangisi "silindir" olarak adlandırılır?
A)  B)  C) 

13.  Yandaki nesne aşağıdaki geometrik cisimlerden hangisi ile adlandırılır?
A) Küp B) Küre C) Koni

14.  Yandaki nesne aşağıdaki geometrik cisimlerden hangisi ile adlandırılır?
A) Silindir B) Küre C) Koni

15.  Yandaki nesne aşağıdaki geometrik cisimlerden hangisi ile adlandırılır?
A) Silindir B) Üçgen prizma C) Koni



16. Küpün kaç tane ayrıtı vardır?
A) 6 B) 8 C) 12

17. Üçgen prizmanın kaç tane yüzü vardır?
A) 5 B) 9 C) 12

18. Aşağıdakilerden hangisini ayrıtı vardır?

- A)  B)  C) 

19. Aşağıdakilerden hangisini tüm yüzleri birbirine eşittir?
A) Küre B) Küp C) Silindir

20. Aşağıdakilerden hangisinin yüzü daha fazladır?
A)  B)  C) 