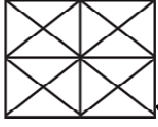


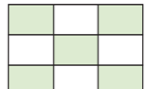
1. Yandaki görselde verilen bütün kaç tane birim kesirden oluşmuştur?

- A) 5
B) 10
C) 15



2. Yandaki görselde verilen bütün kaç tane birim kesirden oluşmuştur?

- A) 12
B) 14
C) 16



3. Yandaki görselde verilen kesirde boyalı alan kaç birimden oluşmuştur?

- A) 4
B) 5
C) 10



4. Yandaki görselde verilen kesirde boyalı alan kaç birimden oluşmuştur?

- A) 5
B) 6
C) 7

5. $\frac{1}{8} + \frac{5}{7} + \frac{1}{2} + \frac{1}{3} + \frac{1}{5} + \frac{3}{4}$ Yandaki kesirlerden kaç tanesi birim kesri gösterir?

- A) 3
B) 4
C) 5

6. $\frac{1}{8} + \frac{1}{7} + \frac{2}{3}$ Yandaki kesirlerden kaç tanesi birim kesri gösterir?

- A) 1
B) 3
C) 2

7. $\frac{9}{10}$ Yandaki kesir kaç tane birim kesirden oluşmuştur?

- A) 9
B) 10
C) 19

8. $\frac{4}{6}$ Yandaki kesir kaç tane birim kesirden oluşmuştur?


- A) 4
B) 6
C) 10

9. $\frac{1}{5}$ Yanda verilen birim kesrin kaç tanesi bir bütüne eşittir?

- A) 1
B) 5
C) 6

10. $\frac{1}{7}$ Yandaki birim kesrin kaç tanesi bir bütüne eşittir?

- A) 7
B) 8
C) 14

11.  Yandaki görselle ilgili aşağıda verilenlerden hangisi doğru değildir?

- A) Oluşan kesrin paydası 6'dır.
B) Oluşan birim kesrin payı 6'dır.
C) 6 tane birim kesir elde edilir.

12. Yandaki görselle ilgili aşağıda verilenlerden hangisi doğru değildir?

- A) Taralı alan 1 birimdir.
B) Bütünü 4 birimden oluşur.
C) Oluşan birim kesrin paydası 3'tür.