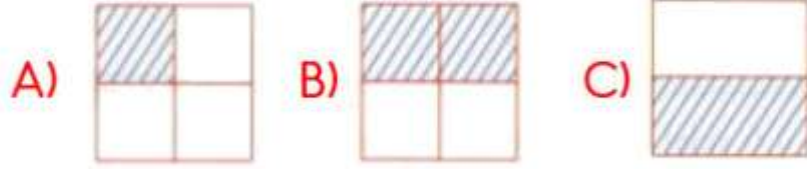


## Kesirler Değerlendirme Testi


1. Aşağıdakilerden hangisi yarımı göstermektedir?



2. Aşağıdakilerden hangisi çeyreği göstermektedir?



3. Aşağıdakilerden hangisi bütünü göstermektedir?



4. Aşağıdakilerden hangisi 3 çeyreğe eşittir?



5. Aşağıdaki parçalardan hangisi çeyrek olabilir?



6. Aşağıdakilerden hangisi yarımı göstermektedir?



7. Aşağıdakilerden hangisi çeyreği göstermektedir?




8. Aşağıdakilerden hangisi bütünü göstermektedir?



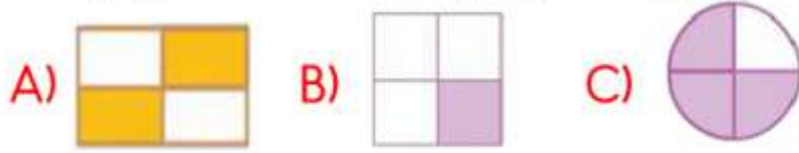
9. Aşağıdakilerden hangisi 2 çeyreğe eşittir?



10. Aşağıdaki hangisi 2 yarıma eşittir?



11. Aşağıdakilerden hangisi yarımı göstermektedir?



12. Yukarıdaki yarımalar kaç bütünü oluşturur?

A) 2 B) 3 C) 4



13. Yukarıdaki çeyrekler kaç bütünü oluşturur?

A) 1 B) 2 C) 3



14. Yukarıdaki parçalar kaç bütünü oluşturur?

A) 1 B) 2 C) 3



15. Yukarıdaki elmalar kaç tane yarım elma eder?

A) 4 B) 5 C) 6



16. Yukarıdaki kalemlerin çeyreği kaç tanedir?

A) 1 B) 2 C) 3



17. Yukarıdaki ekmekler kaç yarımdan oluşmuştur?

A) 4 B) 6 C) 8

18. 12'nin yarısı kaçtır?

A) 4 B) 6 C) 8

19. Aşağıdaki ifadelerden hangisi doğru değildir?

- A) Bütün, iki yarımdan oluşur.  
B) Yarım, iki çeyrekten oluşur.  
C) Çeyrek, bütünün yarısına eşittir.

20. Aşağıdaki eşitliklerden hangisi doğrudur?

- A) 4 yarım = 2 çeyrek  
B) 16 çeyrek = 8 yarım  
C) 12 bütün = 10 yarım