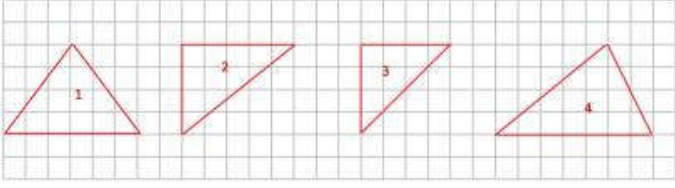


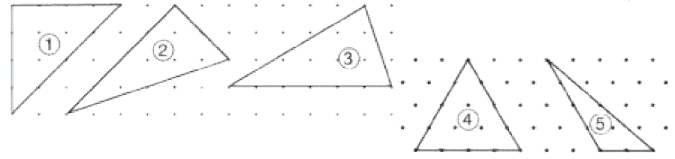
1.



Yukarıdaki üçgenlerden hangisi dik açılı üçgenlerdir?

- A) 3-4
- B) 2-3
- C) 1-2
- D) 2-4

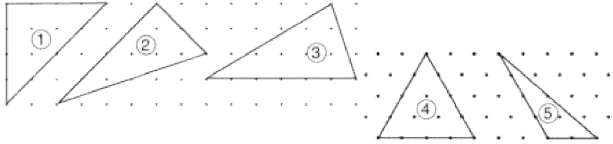
2.



Yukarıdaki üçgenlerden hangisi ikiz kenar üçgendir?

- A) 2
- B) 1
- C) 3
- D) 4


3.



Yukarıdaki 5 numaralı üçgen için aşağıdakilerden hangisi söylenebilir?

- A) Dik kenar üçgen
- B) İkiz kenar üçgen
- C) Çeşit kenar üçgen
- D) Eş kenar üçgen

4.



Aşağıdakilerden hangisi 2 nolu geometrik şeklin adıdır?

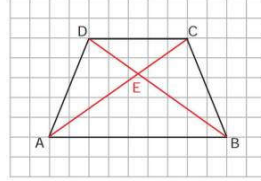
- A) Kare
- B) Paralelkenar
- C) Dörtgen
- D) Yamuk

5.



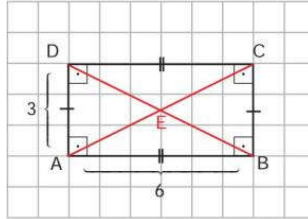
Aşağıdakilerden hangisi 1 nolu geometrik şeklin adıdır?

- A) Yamuk
- B) Dikdörtgen
- C) Kare
- D) Dörtgen



6. Şekildeki yamukla ilgili verilen bilgilerden hangisi yanlıştır?

- A) D ve C açıları geniş açıdır.
- B) Yamuğun bütün kenar uzunlukları birbirinden farklıdır.
- C) İç açıların toplamı 180 derecedir.
- D) A ve C açıların toplamı 180 derecedir.



7. Yandaki dikdörtgenle ilgili verilen bilgilerden hangisi yanlıştır?

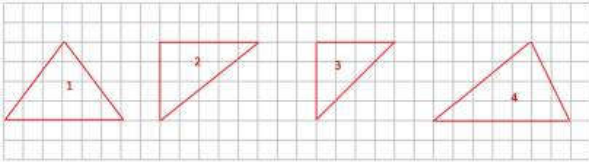
- A) $|AB| = |CB|$, $|DC| = |DA|$ 'dır.
- B) $|BC| = |AD| = 3$ birim
- C) $|AB| = |DC| = 6$ birim
- D) Bütün açıları 90 derecedir.

8.



Aşağıdakilerden hangisi 4 nolu geometrik şeklin adıdır?

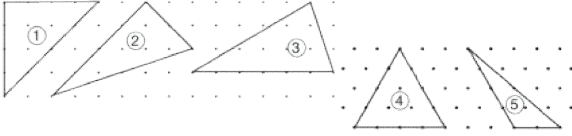
- A) Eşkenar dörtgen
- B) Dikdörtgen
- C) Paralelkenar
- D) Yamuk



9.

Yukarıdaki üçgenlerden hangisi geniş açılı üçgendir?


- A) 2
- B) 1
- C) 4
- D) 3



10.

Yukarıdaki üçgenlerden hangisi eş kenar üçgendir?

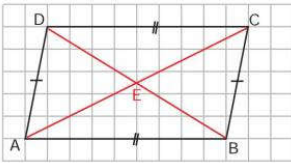
- A) 1
- B) 3
- C) 2
- D) 4



11.

Aşağıdakilerden hangisi 3 nolu geometrik şeklin adıdır?

- A) Paralelkenar
- B) Dikdörtgen
- C) Eşkenar dörtgen
- D) Yamuk



12.

Yandaki paralelkenar ile ilgili verilen bilgilerden hangisi yanlıştır?

- A) B ve D açıları geniş açıdır.
- B) A ve C açıları dar açıdır.
- C) Uzun kenarı 9 birimdir.
- D) Kısa kenarı 6 birimdir.