
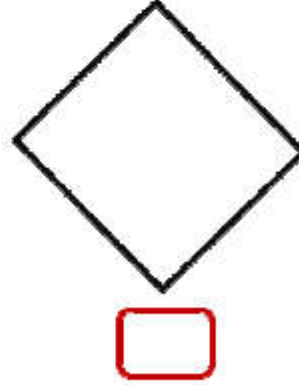
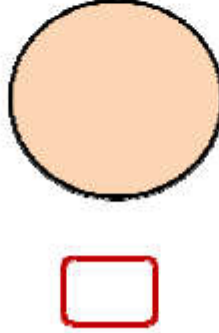
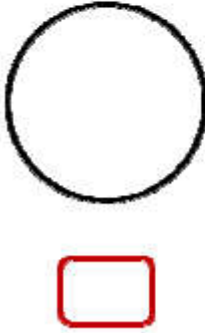
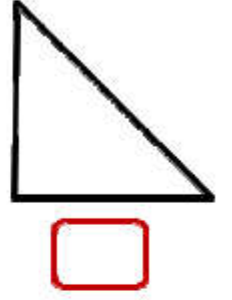
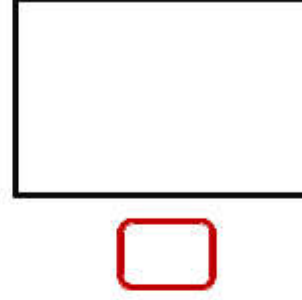
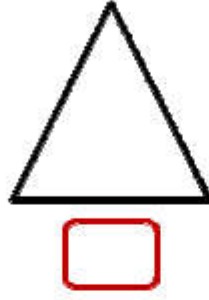
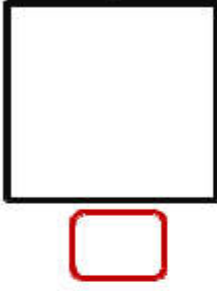


1. Aşağıdaki geometrik şekillerden kenarı ve köşesi olanları bulunuz. Şekillerin altındaki kutuyu kırmızıya boyayınız.



2. Aşağıdaki geometrik şekillerin kenar ve köşe sayılarını noktalı yerlere yazınız.

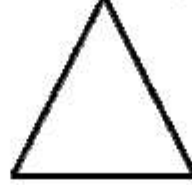


Kenar sayısı

.....

Köşe sayısı

.....



Kenar sayısı

.....

Köşe sayısı

.....




Kenar sayısı

.....

Köşe sayısı

.....

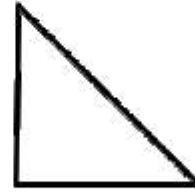


Kenar sayısı

.....

Köşe sayısı

.....




Kenar sayısı

.....

Köşe sayısı

.....




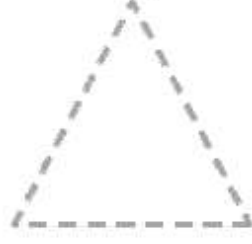
Kenar sayısı

.....

Köşe sayısı

.....

4. Aşağıdaki şekillerin adını altlarına yazarak köşelerini kırmızıya, kenarlarını yeşile boyayınız.



.....

.....

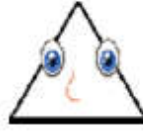
.....

.....

5. Aşağıdaki geometrik şekillerin özelliklerini boşlukları doldurarak yazınız.



Benim adımdir.
Benim köşem vardır.
Benim kenarım vardır.



Benim adımdir.
Benim köşem vardır.
Benim kenarım vardır.



Benim adımdir.
Benim köşem vardır.
Benim kenarım vardır.



Benim adımdir.
Benim köşem vardır.
Benim kenarım vardır.

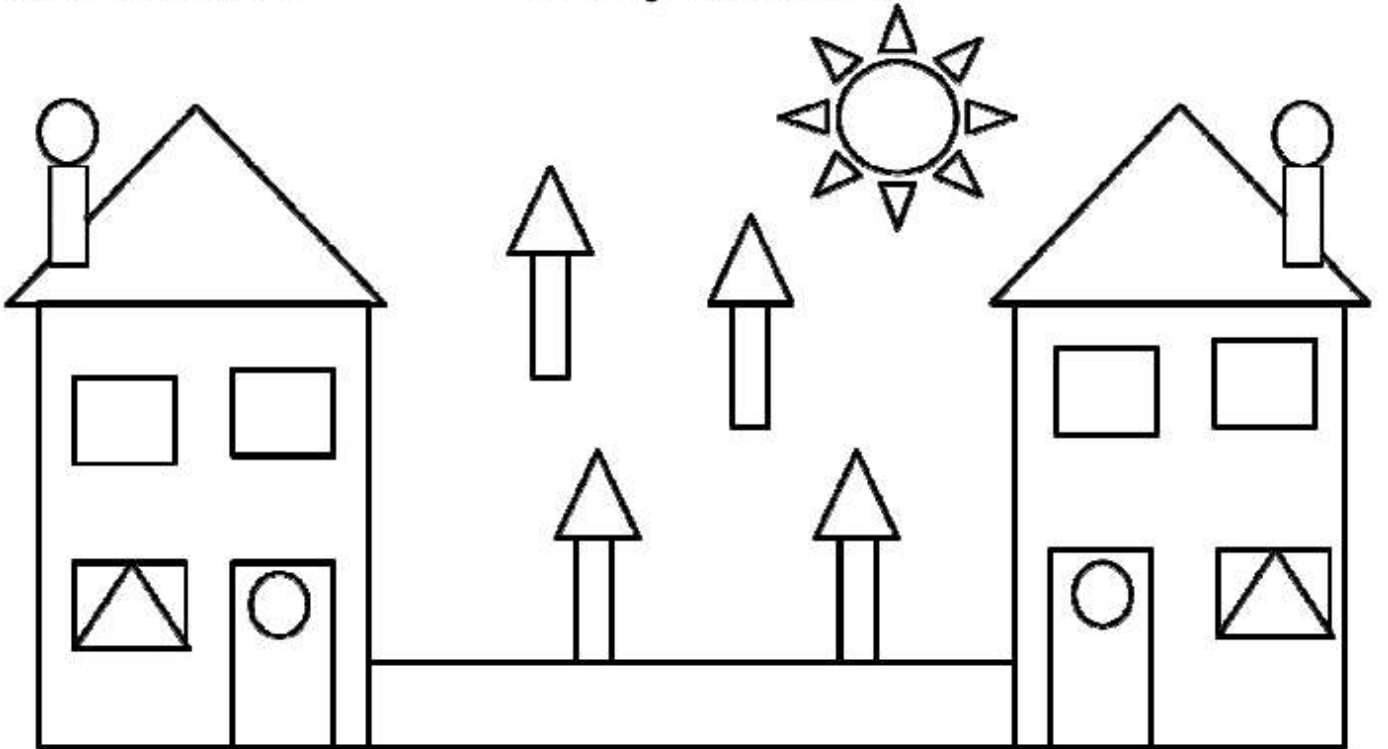
6. Aşağıdaki geometrik şekillerin sayısını yazarak istenilen renge boyayınız.

Kare: tane

Üçgen: tane

Çember: tane

Dikdörtgen: tane



Kare: **Kırmızı**

Üçgen: **Yeşil**

Çember: **Turuncu**

Dikdörtgen: **Sarı**