

1. Yanda çizimi verilen geometrik şekil hangisidir?

- A) Kare
- B) üçgen
- C) Dikdörtgen
- D) Beşgen

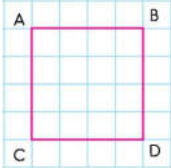


2. Yanda çizimi verilen geometrik şekil hangisidir?

- A) Kare
- B) üçgen
- C) Dikdörtgen
- D) Beşgen

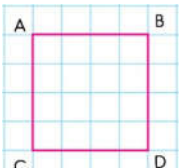
3. Aşağıdaki bilgilerden hangisi yanlıştır?

- A) Üçgenin, 3 köşesi ve 3 kenarı vardır.
- B) Dörtgenin, 4 köşesi ve 4 kenarı vardır.
- C) Dikdörtgenin, 4 köşesi ve 4 kenarı vardır.
- D) Üçgenin bütün kenarları eşit uzunluktadır.



4. Aşağıdakilerden hangisi yandaki şeklin kenarlarından birisi değildir?

- A) AB
- B) BC
- C) AC
- D) BD

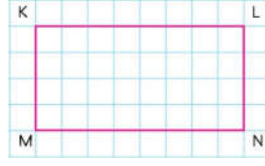


5. Aşağıdakilerden hangisi yandaki şeklin köşegenlerinden birisidir?

- A) AC
- B) AB
- C) AD
- D) CD

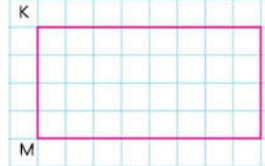
6. Aşağıdakilerden hangisinin kenar ve köşe sayıları diğerlerinden farklıdır?

- A) Üçgen
- B) Kare
- C) Dörtgen
- D) Dikdörtgen



7. Aşağıdakilerden hangisi yandaki şeklin kenarlarından birisi değildir?

- A) KN
- B) LN
- C) KL
- D) KM



8. Aşağıdakilerden hangisi yandaki şeklin köşegenlerinden birisidir?

- A) KL
- B) KM
- C) MN
- D) ML

9. Aşağıdaki geometrik şekillerden hangisinin köşegeni yoktur?

- A) Kare
- B) Üçgen
- C) Dikdörtgen
- D) Dörtgen

10. Aşağıdaki bilgilerden hangisi yanlıştır?

- A) Üçgen, kare ve dikdörtgenin köşeleri isimlendirilirken büyük harfler kullanılır.
- B) Üçgen, kare ve dikdörtgenin kenarlar× isimlendirilirken köşelerindeki harflerden yararlanır.
- C) Karenin, 4 eş kenarı vardır. Karşılıklı kenarları kesişir.
- D) Dikdörtgenin, 4 kenarı vardır ve karşılıklı kenarları eşittir. Karşılıklı kenarları kesişmez.

11. Aşağıdakilerden hangisi kenar uzunluklarına göre üçgen çeşitlerinden birisi değildir?

- A) Eşkenar üçgen
- B) İkizkenar üçgen
- C) Çeşitkenar üçgen
- D) Dik üçgen

12. Üçgenlerle ilgili aşağıdaki eşleştirmelerden hangisi yanlıştır?

- A) Çeşitkenar Üçgen: Üçgenin üç kenar uzunluğu da birbirinden farklıdır.
- B) Dik Kenar Üçgen: Bütün kenarları birbirine diktir.
- C) Eşkenar Üçgen: Üçgenin üç kenar uzunluğu birbirine eşittir.
- D) İkizkenar Üçgen: Üçgenin iki kenar uzunluğu birbirine eşittir.