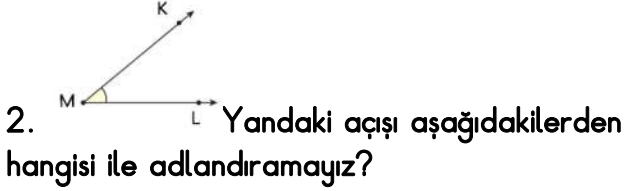
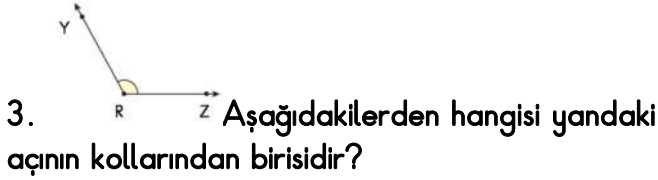


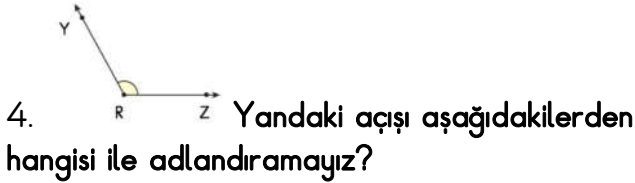
- A) M açının köşesidir.
- B) MK ışını vardır.
- C) KL ışını vardır.
- D) ML ışını vardır.



- A) KL açısı.
- B) M açısı.
- C) KML açısı.
- D) LMK açısı.



- A) YZ ışını.
- B) R ışını.
- C) RY ışını.
- D) ZY ışını.



- A) R açısı.
- B) YZ açısı.
- C) YRZ açısı.
- D) ZRY açısı.

5. Ölçümü 90° olan açılara ne ad verilir?

- A) Dik açı
- B) Dar açı
- C) Geniş açı
- D) Tam açı

6. Ölçümü 90° 'den büyük olan açılara ne ad verilir?

- A) Dik açı
- B) Dar açı
- C) Geniş açı
- D) Doru açı

7. Ölçümü 90° 'den küçük olan açılara ne ad verilir?

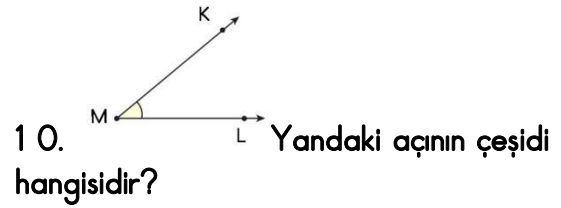
- A) Dik açı
- B) Dar açı
- C) Geniş açı
- D) Tam açı

8. Ölçümü 180° olan açılara ne ad verilir?

- A) Dik açı
- B) Dar açı
- C) Geniş açı
- D) Doğru açı



- A) Dik açı
- B) Dar açı
- C) Geniş açı
- D) Doğru açı



- A) Dik açı
- B) Dar açı
- C) Geniş açı
- D) Doğru açı



- A) Dik açı
- B) Dar açı
- C) Geniş açı
- D) Doğru açı



- A) Dik açı
- B) Dar açı
- C) Geniş açı
- D) Doğru açı