






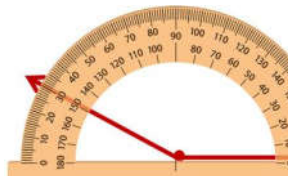
1.  Yanda ölçümü yapılan açı kaç derecedir?
 A) 45° B) 135°
 C) 150° D) 140°

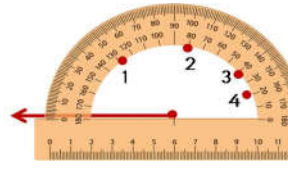
2.  Yanda ölçümü yapılan açı kaç derecedir?
 A) 80° B) 100°
 C) 110° D) 70°


3.  Yanda ölçümü yapılan açı kaç derecedir?
 A) 60° B) 110°
 C) 120° D) 180°


4.  Yanda ölçümü yapılan açı kaç derecedir?
 A) 90° B) 180°
 C) 170° D) 100°


5.  Yanda ölçümü yapılan açı kaç derecedir?
 A) 0° B) 10°
 C) 18° D) 180°


6.  Yanda ölçümü yapılan açı kaç derecedir?
 A) 30° B) 70°
 C) 150° D) 130°


7.  Yandaki ölçümde kaç numaradan geçen ışın 160° açı oluşturur?
 A) 1 B) 2 C) 3 D) 4

8.  Yandaki ölçümde açı oluşturacak şekilde 2 numaradan geçen ışın aç derecelik açı oluşturur?
 A) 130° B) 100°
 C) 80° D) 140°

9.  Yandaki şekilde belirtilen noktalardan geçen ışınların oluşturduğu açılarla ilgili aşağıdaki eşleştirmelerden hangisi yanlıştır?
 A) 1 : 130° B) 2 : 100°
 C) 3 : 140° D) 4 : 160°

10.  Yandaki ölçümde açı oluşturacak şekilde 1 numaradan geçen ışın aç derecelik açı oluşturur?
 A) 130° B) 120°
 C) 60° D) 540°

11.  Yandaki şekilde belirtilen noktalardan geçen ışınların oluşturduğu açılarla ilgili aşağıdaki eşleştirmelerden hangisi yanlıştır?
 A) 1 : 60° B) 2 : 90°
 C) 3 : 50° D) 4 : 30°

12.  Yandaki ölçümde kaç numaradan geçen ışın 50° açı oluşturur?
 A) 1 B) 2 C) 3 D) 4