



1. Yukarıdaki çift kollu terazide ölçülen şekerin kütlesi hangisine eşittir?

- A) 300 g
- B) 3 kg
- C) 200 g



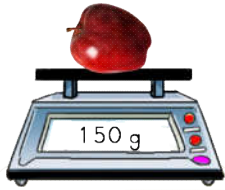
2. Yukarıdaki dijital terazide ölçülen domateslerden her birinin kütlesi kaç gramdır?

- A) 90 g
- B) 120 g
- C) 100 g



3. Yukarıdaki dijital terazide ölçülen armutlardan 5 tanesinin kütlesi kaç gramdır?

- A) 375 g
- B) 625 g
- C) 500 g



4. Yukarıdaki dijital terazide ölçülen elmaların 6 tanesinin kütlesi kaç gramdır?

- A) 750 g
- B) 600 g
- C) 900 g




5. Yukarıdaki dijital terazide tartılan şeftalilerden bir tanesini alırsak geriye kaç gram şeftali kalır?

- A) 410 g
- B) 390 g
- C) 130 g



6. Yukarıdaki çift kollu terazide ölçülen paketlerden her birinin kütlesi kaç gramdır?

- A) 300 g
- B) 100 g
- C) 200 g




7. Yukarıdaki çift kollu terazide ölçülen buğdayın kütlesi hangisine eşittir?

- A) 500 g
- B) 1000 kg
- C) 1 kg



8. Yukarıdaki çift kollu terazide ölçülen unun kütlesi hangisine eşittir?

- A) 7 kg
- B) 70 g
- C) 50 g




9. Yukarıdaki çift kollu terazide ölçülen paketlerden birisinin kütlesi kaç gramdır?

- A) 400 g
- B) 300 g
- C) 500 g




10. Yukarıdaki çift kollu terazide ölçülen ekmeklerden birisinin kütlesi kaç gramdır?

- A) 250 g
- B) 200 g
- C) 125 g




11. Yukarıdaki dijital terazide ölçülen domatesler 1 kilogramdan kaç gram eksiktir?

- A) 640 g
- B) 580 g
- C) 720 g



12. Yukarıdaki dijital terazide ölçülen armutlardan kaç tanesi 1 kilogram gelir?

- A) 6
- B) 4
- C) 8




13. Yukarıdaki çift kollu terazide ölçülen paketlerden birisinin kütlesi kaç gramdır?

- A) 100 g
- B) 50 g
- C) 250 g



14. Yukarıdaki dijital terazide ölçülen şeftalilerin kütlesi 1 kg den kaç gram eksiktir?

- A) 580 g
- B) 320 g
- C) 480 g



15. Yukarıdaki çift kollu terazide ölçülen mercimeğin kütlesi hangisine eşittir?

- A) 150g
- B) 200 g
- C) 200 kg