

SİMETRİ TEST

Simetri

1. Aşağıdaki şekillerden hangisi kesikli çizgilerle iki eş parçaya ayrılmıştır?



2. Yandaki şeklin eşi hangi seçenekte verilmiştir?

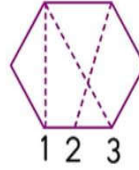


3. Yandaki şekli kaç numaralı katlama yerinden kesersek şekil iki eş parçaya bölünmüş olur?

A. 1

B. 2


C. 3



4. Aşağıdaki şekillerden hangisi iki eş parçaya **ayrılmaz**?




5. Aşağıda verilen şekillerden hangisi dikey olarak ikiye katlanırsa eş iki parça **oluşmaz**?



6. Aşağıdaki şekillerden hangisi iki eş parçanın birleşmesiyle oluşur?



7. Yandaki şekil kırmızı çizgi ile belirtilen kısmı simetri aynasına gelecek şekilde konuluyor. Şekil ile simetri aynasında oluşan şekil hangi seçenekte verilmiştir?



8. Aşağıdaki şekillerden hangisi iki eş parçaya ayrılabilir?



9. Aşağıdaki şekillerden hangisi ikiden fazla katlanırsa her seferinde eş parçalar elde edilir?



10. Aşağıdaki seçeneklerde verilen rakamlardan hangisi iki eş parçaya **ayrılmaz**?



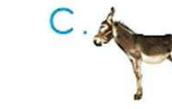
11. Aşağıdakilerden hangisi simetrik iki parçanın birleşimiyle oluşur?



12. Aşağıdaki şekillerden hangisi simetrik **değildir**?




13. Aşağıdakilerden hangisinin yandan görünüşü simetriktir?



14. Yandaki şeklin simetriği hangi seçenekte verilmiştir?



15. Aşağıdaki varlıklardan hangisi simetriktir?



16. Yanda bir kelebeğin eş parçalarından biri verilmiştir. Bu parçaya eş olan parça hangi seçenekte verilmiştir?

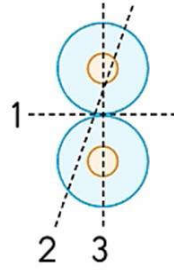


17. Yandaki şekilde katlama çizgilerinden hangisi şekli iki eş parçaya ayırmaz?

A. 1

B. 2

C. 3

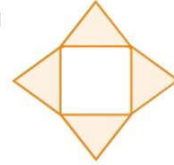


18. Yandaki şekilde eş iki parça oluşturan kaç tane katlama çizgisi çizilebilir?

A. 2

B. 3

C. 4



19. Aşağıdakilerden hangisi simetrik değildir?




20. Yandaki harfin iki eş parça oluşturan kaç tane katlama çizgisi vardır?

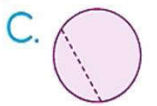
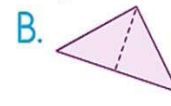

A. 1

B. 2

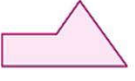
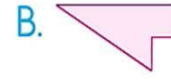
C. 3




21. Aşağıdaki şekillerden hangisi iki eş parçaya ayrılmıştır?



22. Yandaki şeklin eşi hangi seçenekte verilmiştir?



23. Aşağıdakilerden hangisi iki eş parçaya ayıramaz?

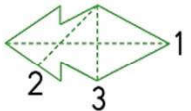


24. Yandaki şekli kaç numaralı katlama yerinden kesersek şekil iki eş parçaya ayrılmış olur?

A. 1

B. 2


C. 3



25. Hangi şekil dikey olarak ikiye katlanırsa iki eş parça oluşmaz?



26. Hangi şekil ikiden fazla katlanırsa her seferinde eş parçalar oluşur?



27. Verilen rakamlardan hangisi iki eş parçaya ayıramaz?

