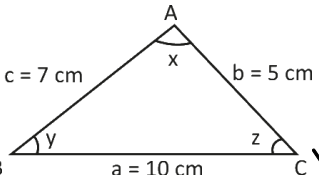
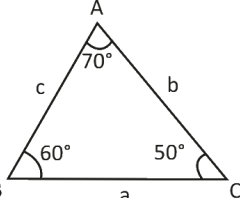
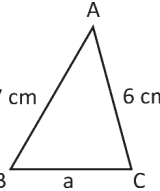


1.  Yandaki üçgenin açı ölçülerini büyükten küçüğe doğru sıralanışı hangi seçenekte doğru verilmiştir?

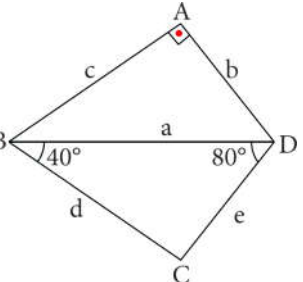
- A)  $y > z > x$  B)  $y > x > z$   
C)  $x > y > z$  D)  $x > z > y$

2.  Yandaki üçgenin kenar uzunluklarını büyükten küçüğe doğru sıralanışı hangi seçenekte doğru olarak verilmiştir?

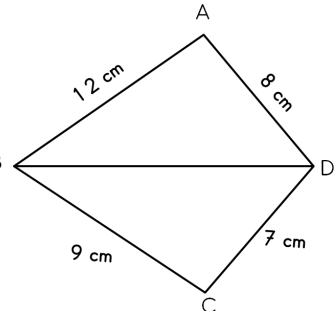
- A)  $b > a > c$  B)  $a > b > c$   
C)  $a > c > b$  D)  $b > c > a$

3.  Yanda verilen ABC üçgeninde A açısı en küçük açı olduğuna göre [BC]'nin uzunluğunun alabileceği en büyük ve en küçük tam sayı değerleri toplamı kaçtır?

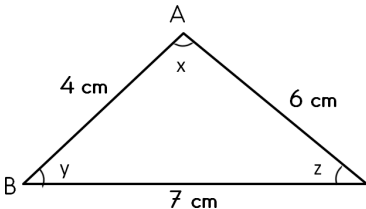
- A) 2 B) 5 C) 7 D) 9

4.  Yandaki ABCD dörtgeninde en uzun kenar aşağıdakilerden hangisidir?

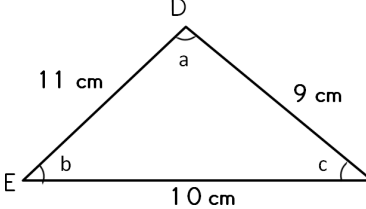
- A) a B) b C) c D) d

5.  Yandaki ABCD dörtgeninde [BC] en az kaç cm olur?

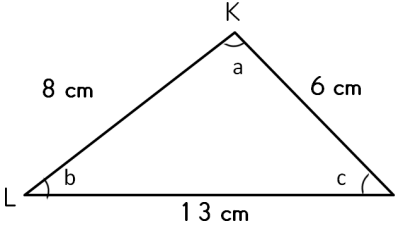
- A) 4 cm B) 5 cm  
C) 6 cm D) 7 cm

6.  Yandaki üçgende açılarının büyükten küçüğe doğru sıralanışı hangi seçenekte verilmiştir?

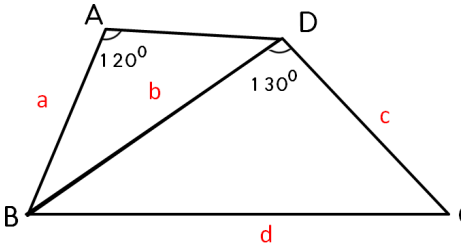
- A)  $x > y > z$  B)  $y > x > z$   
C)  $x > z > y$  D)  $z > y > x$

7.  Yandaki üçgende açılarının büyükten küçüğe doğru sıralanışı hangi seçenekte verilmiştir?

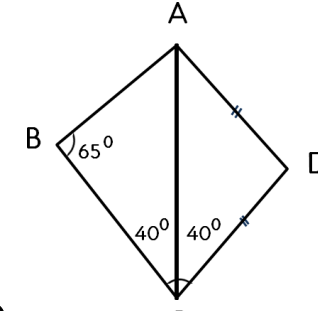
- A)  $a > b > c$  B)  $b > a > c$   
C)  $c > a > b$  D)  $c > b > a$

8.  Yandaki üçgende açılarının büyükten küçüğe doğru sıralanışı hangi seçenekte verilmiştir?

- A)  $a > b > c$  B)  $b > a > c$   
C)  $c > a > b$  D)  $a > c > b$

9.  Yandaki dörtgende en uzun kenar hangisidir?

- A) c B) d C) b D) a

10.  Yandaki dörtgende en uzun kenar hangisidir?

- A) [BC] B) [AD]  
C) [AC] D) [DC]