



1. Küpün yüzeyleri aşağıdakilerden hangisinden oluşur?


- A) Karesel bölgelerden.
- B) Üçgen ve kareden.
- C) Kare ve dikdörtgenlerden.
- D) Dikdörtgensel bölgelerden.

2. Küpün kaç tane yüzü vardır?

- A) 4
- B) 6
- C) 8
- D) 12

3. Küpün sınırları aşağıdaki geometrik şekillerden hangisini oluşturur?

- A) Dikdörtgen
- B) üçgen
- C) Kare
- D) Daire



4. Yanda açınımı verilen cisim hangisidir?

- A) Silindir
- B) Küp
- C) Küre
- D) Koni

5. Küpün kaç tane ayrıtı vardır?

- A) 4
- B) 6
- C) 8
- D) 12

6. Küpün kaç tane köşesi vardır?

- A) 4
- B) 6
- C) 8
- D) 12



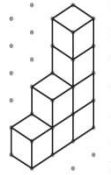
7. Yandaki yapı kaç tane birim küpten oluşmuştur?

- A) 11
- B) 12
- C) 14
- D) 15



8. Yandaki yapı kaç tane birim küpten oluşmuştur?

- A) 8
- B) 14
- C) 12
- D) 16



9. Yandaki yapı kaç tane birim küpten oluşmuştur?

- A) 6
- B) 7
- C) 8
- D) 9



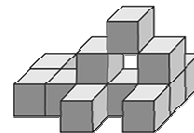
10. Yandaki yapı kaç tane birim küpten oluşmuştur?

- A) 6
- B) 7
- C) 8
- D) 9



11. Yandaki yapı kaç tane birim küpten oluşmuştur?

- A) 9
- B) 12
- C) 13
- D) 14



12. Yandaki yapı kaç tane birim küpten oluşmuştur?

- A) 9
- B) 12
- C) 13
- D) 14