





Problemleri çözdükten sonra sayfa sonunda cevaplarınızı kontrol edebilirsiniz.


1. Bir araç saate 60 km hızla ilerlemektedir. Araç, 8 saat sonra kaç km yol almış olur?




2. Bir çiftlikte 269 tavuk ve 89 koyun vardır. Çiftlikteki hayvanların ayak sayıları toplamı kaçtır?




3. Bir manavda 36 kg elma, elmaların 4 katından 8 kg fazla muz vardır. Manavda kaç meyve vardır?



4. Bir pakette 8 koli ve her kolide 30 yumurta olduğuna göre 5 pakette toplam kaç yumurta vardır?



5. Emine Nur pazardan kilosu 25 lira olan elmadan 8 kilo, kilosu 45 lira olan fasulyeden de 7 kg alıyor. Emine Nur pazarda kaç lira harcamıştır?



6. Bir araç bir litre benzinle 8 km yolu gidiyor. Depoda 35 litre benzin var. Araç bir depo benzinle kaç km yol gider?

7. Bir okuldaki öğrenciler bayram kutlamaları için üçerli 36 sıra, ikiserli 27 sıra yapmışlardır. Buna göre, okulda kaç öğrenci vardır?

8. Bir mağazada tanesi 386 TL olan gömleklerden 7 tane ve tanesi 256 TL olan tişörtlerden 8 tane satılmıştır. Bu satıştan toplam kaç TL alınmıştır?

9. Tanesi 8 TL olan simitlerden 45 tane ve tanesi 12 TL olan poğaçalardan 25 tane satan satıcı kaç TL almıştır?

10. Bir okulda 4 sınıf, her sınıfta 7 şube ve her şubede ortalama 32 öğrenci olduğuna göre bu okulda kaç öğrenci vardır?

515

660

188

153

480

896

1 200

4 750

894

280

11. Defne 9 yaşındadır. Annesinin yaşı, Defne'nin yaşının 4 katından 8 fazladır. Defne'nin annesi kaç yaşındadır?

12. Azra'nın babasının yaşı, Azra'nın yaşının 5 katından 7 eksiktir. Azra 8 yaşında olduğuna göre ikisinin yaş toplamları ne kadardır?

13. Her gün 4 ekmek tüketen bir aile, 2 ayda kaç ekmek tüketir? (1 ay=30 gün)

14. Bir sınıfta her öğrenciden 1 75 lira gezi parası toplanmaktadır. 32 öğrencinin toplandığı gezi ücreti toplam kaç lira olmuştur?

15. 4 katlı okulun her katında 1 4 sınıf, her sınıfında da 6 pencere vardır. Bayram kutlaması için yapılacak süslemelerde kaç pencere süslenmiş olur?

16. Ada test kitabından her gün Türkçe, Matematik, Fen Bilimleri ve Sosyal Bilgiler derslerinden eŝti sayıda soru çözmektedir. Her gün her dersten 15 soru çözdüğüne göre 1 haftada kaç soru çözer?

17. Bir okulda 28 sınıf, her sınıfta 18 sıra vardır. Sıralarda öğrenciler ikişerli oturduğuna göre okulun öğrenci mevcudu kaçtır?

18. Bir giyim mağazasında tanesi 286 TL olan eteklerden 8 tane ve tanesi 365 TL olan pantolonlardan 12 tane satılmıştır. Bu satıştan toplam kaç lira gelir elde edilmiştir?

19. Bir çiftlikte 16 inek, ineklerin 4 katı kadar tavuk bulunmaktadır. Çiftlikteki hayvanların ayak sayıları toplamı kaçtır?

20. Ezgi 17 yaşındadır. Dedesinin yaşı, Ezgi'nin yaşının 3 katından 12 fazladır. Buna göre dedesi, Ezgi'den kaç yaş büyüktür?

1 008

336

192

240

44

420

6 668

5 600

41

80