





Problemleri çözdükten sonra sayfa sonunda cevaplarınızı kontrol edebilirsiniz.


1. Ayla Hanım, marketten kilogramı 1 48 TL olan peynirden 2 kg, kilogramı 3 43 TL olan etten 3 kg aldı. Ayla Hanım aldıklarına kaç Türk lirası ödemiştir?




2. Bir bakkal, toptancıdan çuvalı 54 kg 3 çuval mercimek, mercimeğin 2 katından 10 kg az pirinç aldı. Bu bakkal, toplam kaç kilogram mercimek ve pirinç almıştır?




3. Annem pazardan kilogramı 38 lira olan muzdan 5, kilogramı 17 lira olan elmadan 4, kilogramı 45 lira olan kirazdan 3 kilo almıştır. Annem aldıkları için ne kadar ödemiştir?



4. Fındığın kilosu 86 TL olduğuna göre 68 kg fındık satan Elif kaç TL alır?



5. Bir oyuncak mağazasındaki kamyonun fiyatı 273 TL, bebeğin fiyatı 139 TL'dir. Bu oyuncaklardan sekizer tane satıldığında kaç Türk lirası elde edilir?



6. Mert 14 yaşındadır. Annesinin yaşı, Mert'in yaşının 3 katından 7 yaş fazladır. Mert'in annesi kaç yaşındadır?

7. Bir simitçi tanesi 8 TL olan simitlerden 168 tane satmıştır. Simitçi kaç TL almıştır?

8. Her birinde bir deste kalem bulunan kutulardan 48 tane alan kırtasiyeci kaç kalem almıştır?

9. Bir kazada ortalama 25 kg domates vardır. 1 ayda 18 kasa domates satan manav kaç kg domates satmıştır?

10. Sınıf kitaplığımızda 158 hikaye kitabı vardır. Her kitap ortalama 48 sayfa olduğuna göre hepsi kaç sayfadır?

7 584

5 848

576

476

49

3 296

450

393

1 344

1 325

11. Eymen günde ortalama 48 soru çözüyor.
Eymen 2 hatada kaç soru çözer?

12. Bir markette günlük ortalama 158 tane
ekmek satılmaktadır. Bu markette 4 haftada
kaç tane ekmek satılır?

13. Bir fırında günde ortalama 468 ekmek
satılmaktadır. 1 haftada kaç ekmek
satılmıştır?

14. Saatteki ortalama hızı 85 km olan bir otobüs
9 saatte kaç km yol gider?

15. Tanesi 168 TL olan kitaplardan 36 tane
alan Miray kaç TL vermiştir?

16. 6 binadan oluşan bir sitede her binada 27 daire olduğuna göre kaç daire vardır?

17. Bir ağaç ortalama 38 kg elma veriyor. Ahmet amcanı 75 tane elma ağacı olduğuna göre Ahmet amca kaç kg elma almalıdır?

18. Bir çiftlikte 269 tane tavşan, 197 tane tavuk vardır. Buna göre çiftlikteki tavşan ve tavukların ayakları toplamı kaçtır?

19. Bir manav günde ortalama 75 kg sebze ve meyve satmaktadır. Bu manav 4 haftada kaç kg satış yapar?

20. Bir sitede 9 bina, her binada 8 kat ve her katta 4 daire olduğuna göre bu sitede kaç daire vardır?

6 048

2 100

3 276

2 850

672

288

65

1 470

4 424

162