





Problemleri çözdükten sonra sayfa sonunda cevaplarınızı kontrol edebilirsiniz.


1. Bir bölme işleminde bölen 86 ve bölüm 37 ise bölünen kaçtır?




2. Bir bölme işleminde bölüm 52 ve bölen 164 ise bölünen kaçtır?




3. Bir bölme işleminde bölen 41 ve bölüm 19 ise bölünen kaçtır?



4. Bir bölme işleminde bölüm 223 ve bölen 25 ise bölünen kaçtır?



5. Bir bölme işleminde bölen 249 ve bölüm 34 ise bölünen kaçtır?



6. Bir bölme işleminde bölünen 3182 bölen 37  
ise bölüm kaçtır?

7. Bir bölme işleminde bölünen 9570 bölüm 15  
ise bölen kaçtır?

8. Bir bölme işleminde bölünen 5575 bölen 25  
ise bölüm kaçtır?

9. Bir bölme işleminde bölünen 9628 bölüm 29  
ise bölen kaçtır?

10. Bir bölme işleminde bölünen 6572 bölen 31  
ise bölüm kaçtır?

5575

332

8528

638

212

779

8466

86

3182

223

11. Bir bölme işleminde bölünen, bölen ve bölümün toplamı 474, bölen 4 ise bölünen sayı kaçtır?

12. Bir bölme işleminde bölünen, bölen ve bölümün toplamı 753, bölüm 12 ise bölünen sayı kaçtır?

13. Bir bölme işleminde bölünen, bölen ve bölümün toplamı 461, bölen 32 ise bölünen sayı kaçtır?

14. Bir bölme işleminde bölünen, bölen ve bölümün toplamı 538, bölüm 6 ise bölünen sayı kaçtır?

15. Bir bölme işleminde bölünen, bölen ve bölümün toplamı 629, bölen 17 ise bölünen sayı kaçtır?

16. Bir bölme işleminde bölünen, bölen ve bölümün toplamı 71 24, bölüm 18 ise bölen kaçtır?

17. Bir bölme işleminde bölünen, bölen ve bölümün toplamı 9449, bölen 69 ise bölüm kaçtır?

18. Bir bölme işleminde bölünen, bölen ve bölümün toplamı 8865, bölüm 61 ise bölen kaçtır?

19. Bir bölme işleminde bölünen, bölen ve bölümün toplamı 6095, bölen 23 ise bölüm kaçtır?

20. Bir bölme işleminde bölünen, bölen ve bölümün toplamı 51 29, bölüm 53 ise bölen kaçtır?

134

684

374

94

578

416

142

456

376

253