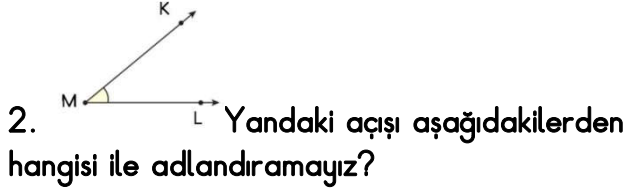
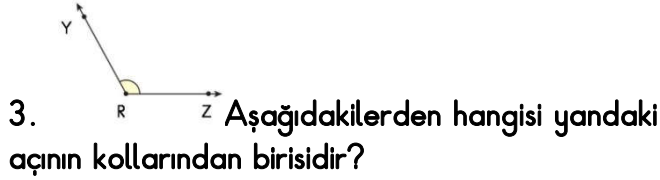


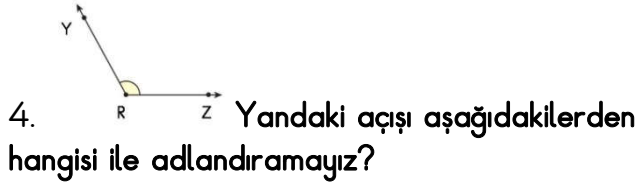
- A) M açının köşesidir.  
B) MK ışını vardır.  
C) KL ışını vardır.  
D) ML ışını vardır.



- A) KL açısı.  
B) M açısı.  
C) KML açısı.  
D) LMK açısı.



- A) YZ ışını.  
B) R ışını.  
C) RY ışını.  
D) ZY ışını.



- A) R açısı.  
B) YZ açısı.  
C) YRZ açısı.  
D) ZRY açısı.

5. Ölçümü  $90^{\circ}$  olan açılara ne ad verilir?

- A) Dik açı  
B) Dar açı  
C) Geniş açı  
D) Tam açı

6. Ölçümü  $90^{\circ}$  'den büyük olan açılara ne ad verilir?

- A) Dik açı  
B) Dar açı  
C) Geniş açı  
D) Doru açı

7. Ölçümü  $90^{\circ}$  'den küçük olan açılara ne ad verilir?

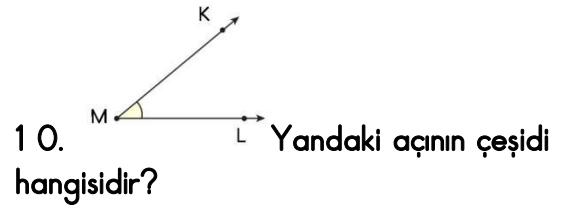
- A) Dik açı  
B) Dar açı  
C) Geniş açı  
D) Tam açı

8. Ölçümü  $180^{\circ}$  olan açılara ne ad verilir?

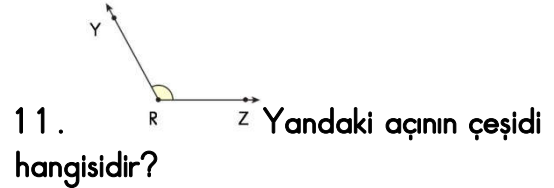
- A) Dik açı  
B) Dar açı  
C) Geniş açı  
D) Doğru açı



- A) Dik açı  
B) Dar açı  
C) Geniş açı  
D) Doğru açı



- A) Dik açı  
B) Dar açı  
C) Geniş açı  
D) Doğru açı



- A) Dik açı  
B) Dar açı  
C) Geniş açı  
D) Doğru açı



- A) Dik açı  
B) Dar açı  
C) Geniş açı  
D) Doğru açı