





Problemleri çözdükten sonra sayfa sonunda cevaplarınızı kontrol edebilirsiniz.


1. 3900 kg fındık 65 çuvala konuluyor. Bir çuvalda kaç kg fındık vardır?




2. Bir sayının 7 katı ile 8 katının toplamı 4505 olduğuna göre bu sayı kaçtır?




3. Günde 8 litre süt veren bir inek 208 litre sütü kaç günde verir?



4. 800 sayısının çeyreğinin 300 fazlası kaçtır?



5. Bir bölme işleminde bölen 18, bölüm 12, kalan 7 ise bölünen kaçtır?



6. 2000 tane şeker, her öğrenciye 15 şeker düşecek şekilde dağıtılıyor. 5 tane şeker artıyor. Buna göre kaç öğrenciye şeker dağıtılmıştır?

7. Çarpımları 3200 olan iki sayıdan biri 32'dir. Bu sayıların toplamı kaçtır?

8. 9 katının 20 eksiği 700 olan sayı kaçtır?

9. 19 seferde 3154 kg yük taşıyan kamyon bir seferde kaç kg yük taşımıştır?

10. Efe ile Ebru'nun yaşları toplamı 36'dır. 3 yıl önceki yaşları toplamı kaçtır?

133

30

80

166

223

500

132

60

26

30

11. Ayaz ile annesinin yaşları toplamı 45' tır. Annesinin yaşı, Ayaz' ın yaşının 4 katı olduğuna göre Ayaz' ın yaşı kaçtır?

12. 720 km yolu 8 saatte giden bir aracın saatteki ortalama hızı kaç km'dir?

13. İki şehir arası 900 km' dir. Bir araç bir şehirden diğerine 12 saatte vardığına göre saatteki ortalama hızı kaç km' dir?

14. 2,5,0,4 rakamlarını birer kez kullanarak oluşturulabilecek en büyük ve en küçük sayının toplamı kaçtır?

15. Bir okuldaki kız öğrencilerin sayısının 186 eksiği 367'dir. Bu okulda erkek öğrencilerin sayısı kız öğrencilerden 245 fazla olduğuna göre bu okuldaki toplam öğrenci sayısı kaçtır?

16. Bir çiftlikteki koyun ve tavukların ayakları sayısı toplamı 582'dir. Bu çiftlikte 137 tavuk olduğuna göre kaç tane koyun vardır?

17. Berke doğduğunda Ezgi 16 yaşındaydı. Berke 9 yaşına geldiğinde Berke ile Ezgi'nin yaşları toplamı kaç olur?

18. Bir tiyatro salonunda 146 erkek seyirci, erkek seyircilerden 28 fazla bayan seyirci, erkek ve bayanların toplamının çeyreği kadar da çocuk vardır. Bu tiyatro salonunda toplam kaç seyirci vardır?

19. "3,7,0,5,6" rakamların her birini yalnız bir kez kullanarak yazılabilecek beş basamaklı en büyük sayı ile en küçük sayının farkı kaçtır?

20. Suriye sınırimız 877 km, İnan sınırimız 456 km, Irak sınırimız 331 km'dir. Buna göre komşu ülkelerle olan sınırlarımızın uzunluęu kaç km'dir?

400

90

1351

45963

7465

77

75

9

1664

34