





Problemleri çözdükten sonra sayfa sonunda cevaplarınızı kontrol edebilirsiniz.


1. 258 sayısının 8 katının 125 eksiği kaçtır?




2. 1832 sayısının çeyreğinin 300 fazlası kaçtır?




3. 896 sayısının yarısının 5 katının 236 eksiği kaçtır?



4. 345 sayısının 8 katının yarısının 452 fazlası kaçtır?



5. 569 sayısının 8 katının 365 fazlasının 1769 eksiği kaçtır?



6. Hangi sayının yarısının 504 eksiği 2462 yapar?

7. Hangi sayının 5 katının 376 fazlası 981 yapar?

8. Hangi sayının 7 katının 500 fazlasının yarısı 2350 eder?

9. Hangi sayının çeyreğinin 158 eksiği 168 olur?

10. Hangi sayının 6 katının 255 fazlası 4197 eder?

600

758

3148

1304

1832

2004

5932

1939

657

121

11. Ali ile Ayşe'nin yaşlarının bugünkü toplamı 42'dir. Ali ile Ayşe'nin yaşlarının toplamı 10 yıl sonra kaç olur?

12. Babasının yaşı Eymen'in yaşının 9 katından 3 eksiktir. Eymen'in yaşı 5 olduğuna göre babası ile Eymen'in yaşlarının toplamı kaçtır?

13. Üç kardeşin yaşlarının toplamı 68'dir. Büyük kardeş ile ortanca kardeşin yaşlarının toplamı 49 ise küçük kardeş kaç yaşındadır?

14. Bir hayvanat bahçesindeki fillerin, aslanların, kuşların toplamı 163'tür. Fillerin sayısı 22, aslanların sayısı 13 ise kuşların sayısı kaçtır?

15. 5 kişilik bir ailede günlük 4 ekmek tüketiliyor. Bir ekmeğin fiyatı 7 TL ise bu ailede 3 ayda ekmek için kaç TL harcanır? (1 ay 30 gün)

16. Çağın bahçelerini boydan boya adımlarıyla ölçüyor ve bahçelerinin uzunluğunu 126 adım buluyor. Çağın'ın adımı kardeşinin adımının 2 katı uzunluğunda olduğunda göre, bahçenin uzunluğu kardeşinin adımıyla kaç adım yapar?

17. Babam 13875 TL'ye buzdolabı aldı. 2685 TL'sini peşin ödedi. Kalan borcunu 6 taksitle ödemek istiyor. Bir taksit kaç TL olur?

18. Elif babaannesinin verdiği harçlığın yarısı ile oyuncak bebek aldı. Geriye kalan para ile de tanesi 5 TL olan şekerlerden 15 tane alıp arkadaşlarına dağıttı. Elif'in babaannesi ne kadar harçlık vermiştir?

19. Bir hamal tanesi 50 kg olan çuvalların her birini 18 TL karşılığı taşıyor. Hamal akşama kadar 2304 TL kazandığına göre kaç çuval taşımıştır?

20. Duru, 252 sayfalık bir kitabı her gün 34 sayfa okuyarak bitirmek istiyor. Duru'nun haftanın sonunda okuyacak kaç sayfası kalır?

2520

150

47

14

252

1865

62

128

19

128