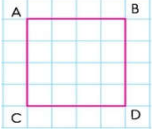


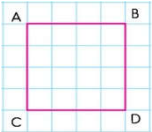
1. Yandaki şekille ilgili aşağıdakilerden hangisi söylenemez?

- A) Bütün kenarları eşit uzunluktadır.  
B) Dört kenarı ve dört köşesi vardır.  
C) Kenar uzunlukları birbirinden farklıdır.  
D) Bu geometrik şeklin adı karedir.



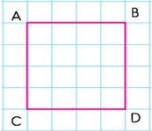
2. Aşağıdaki doğru parçalarından hangisi yandaki geometrik şeklin kenarlarından birisi değildir?

- A) AD B) AC C) AB D) DC



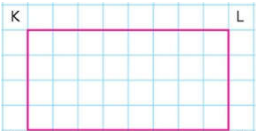
3. Aşağıdaki doğru parçalarından hangisi yandaki geometrik şeklin köşegenlerinden biridir?

- A) BD B) BC C) AB D) CD




4. Aşağıdakilerden hangisi yandaki geometrik şeklin adlarından biri değildir?

- A) ABCD B) ACDB  
C) ABDC D) DCAB



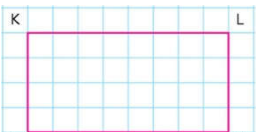
5. Yandaki şekille ilgili aşağıdakilerden hangisi söylenemez?

- A) Karşılıklı kenarları birbirine eşittir.  
B) İki uzun ve iki kısa kenarı vardır.  
C) İki tane köşegeni vardır.  
D) Bütün kenarları eşit uzunluktadır.



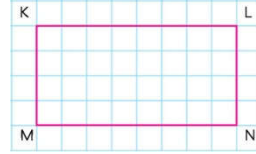
6. Aşağıdakilerden hangisi yandaki geometrik şeklin kenarlarından birisi değildir?

- A) KN B) LN C) MN D) MK



7. Aşağıdakilerden hangisi yandaki şeklin köşegenlerinden birisi değildir?

- A) KN B) ML  
C) KL D) LM



8. Aşağıdakilerden hangisi yandaki geometrik şeklin adlarından biri değildir?

- A) KLMN  
B) NKML  
C) KMNL  
D) NMKL



9. Yukarıdaki noktalardan hangileri üçgen oluşturur?

- A) ABC  
B) BCD  
C) EKL  
D) FNM



10. Yukarıdaki noktalardan hangileri kare oluşturur?

- A) ABCD  
B) DEFJ  
C) MNKL  
D) JNKD



11. Yukarıdaki noktalardan hangileri dikdörtgen oluşturur?

- A) ABCD  
B) DEFJ  
C) ABCJ  
D) KLMN



12. Yukarıdaki noktalardan hangileri üçgen oluşturmaz?

- A) BCA  
B) DEF  
C) CDE  
D) KLM