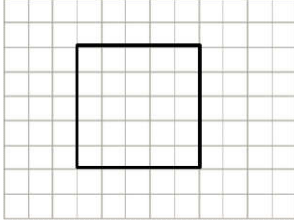



1. Yanda verilen karenin alanı kaç birim karedir?

- A) 28 br^2 B) 35 br^2
C) 42 br^2 D) 49 br^2



2. Şekilde verilen karenin alanı kaç birim karedir?

- A) 20 br^2 B) 24 br^2
C) 25 br^2 D) 28 br^2



3. Yanda verilen karenin alanı kaç birim karedir?

- A) 8 br^2 B) 9 br^2
C) 12 br^2 D) 15 br^2

4. Bir kenarı 6 birim olan karenin alanı kaç birim karedir?

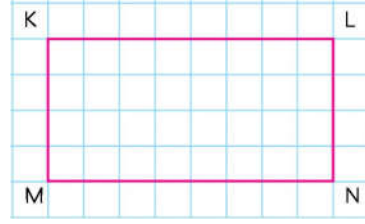
- A) 36 br^2
B) 30 br^2
C) 24 br^2
D) 18 br^2

5. Çevresi 16 birim olan karenin alanı kaç birim karedir?

- A) 4 br^2
B) 8 br^2
C) 12 br^2
D) 16 br^2

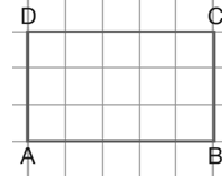
6. Alanı 25 birim kare olan karenin bir kenarı kaç birimdir?

- A) 25 br^2
B) 20 br^2
C) 16 br^2
D) 5 br^2



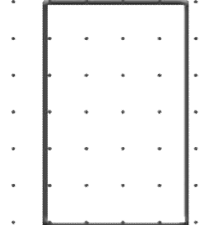
7. Yanda verilen dikdörtgenin alanı kaç birim karedir?

- A) 16 br^2 B) 24 br^2
C) 32 br^2 D) 40 br^2



8. Şekilde verilen dikdörtgenin alanı kaç birim karedir?

- A) 12 br^2 B) 16 br^2
C) 15 br^2 D) 21 br^2



9. Yanda verilen dikdörtgenin alanı kaç birim karedir?

- A) 20 br^2 B) 24 br^2
C) 28 br^2 D) 32 br^2

10. Uzun kenarı 7 birim ve kısa kenarı 5 birim olan dikdörtgenin alanı kaç birim karedir?

- A) 24 br^2
B) 35 br^2
C) 28 br^2
D) 42 br^2

11. Kenar uzunlukları 10 ve 6 birim olan dikdörtgenin alanı kaç birim karedir?

- A) 60 br^2
B) 48 br^2
C) 40 br^2
D) 32 br^2

12. Çevresi 20 birim ve kısa kenarı 3 birim olan dikdörtgenin alanı kaç birim karedir?

- A) 21 br^2
B) 20 br^2
C) 18 br^2
D) 15 br^2