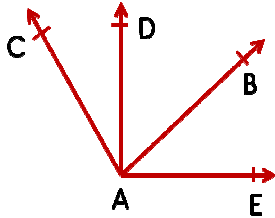
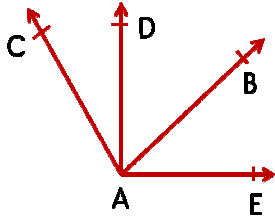
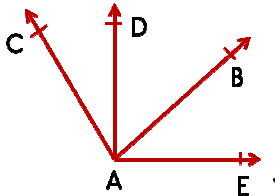
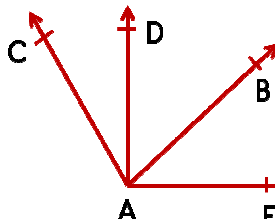


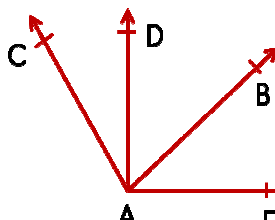


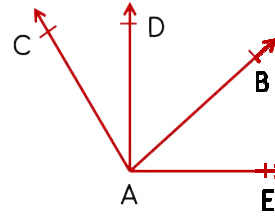
1.  Yandaki çizimde hangisi dar açıdır?  
A) DAE B) EAB  
C) CAB D) CAE

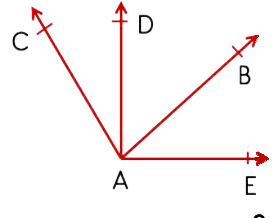
2.  Yandaki çizimde hangisi dik açıdır?  
A) DAE B) EAB  
C) CAD D) CAE

3.  Yandaki çizimde hangisi geniş açıdır?  
A) DAE B) CAE  
C) EAC D) EAB

4.  Yandaki çizimde hangisi dar açı oluşturmaz?  
A) EAD B) EAB  
C) CAD D) DAB

5.  Yandaki çizimde hangisinin ölçüsü  $45^\circ$ 'dir?  
A) DAE B) CAE  
C) CAB D) EAB

6.  Yandaki çizimde hangisinin ölçüsü  $90^\circ$ 'dir?  
A) DAE B) EAB  
C) CAD D) CAE

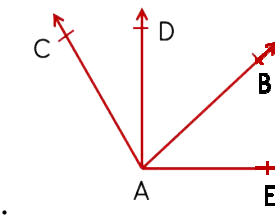
7.  Yandaki çizimde hangisinin ölçüsü  $135^\circ$ 'dir?  
A) DAE B) CAE  
C) EAD D) EAB

8. Aşağıda verilen ölçümlerden hangisi doğru açıdır?  
A)  $180^\circ$  B)  $120^\circ$   
C)  $90^\circ$  D)  $70^\circ$

9. Aşağıda ölçümü verilen açılardan hangisinin çeşidi diğerlerinden farklıdır?  
A)  $89^\circ$  B)  $77^\circ$   
C)  $95^\circ$  D)  $35^\circ$

10. Aşağıda ölçümü verilen açılardan hangisinin çeşidi diğerlerinden farklıdır?  
A)  $85^\circ$  B)  $100^\circ$   
C)  $95^\circ$  D)  $135^\circ$

11. Aşağıda ölçümü verilen açılardan hangisinin çeşidi diğerlerinden farklıdır?  
A)  $120^\circ$  B)  $145^\circ$   
C)  $157^\circ$  D)  $180^\circ$

12.  Yandaki çizime göre aşağıdakilerden hangisi açı oluşturmaz?  
A) CBD B) CAB  
C) EAC D) DAB